

Документ подписан простой электронной подписью  
Информация о владельце:  
ФИО: Волхонов Михаил Иванович  
Должность: Ректор  
Дата подписания: 30.06.2025 15:07:45  
Уникальный программный ключ:  
40a6db1879d6a9ea29ec8e0ffb2f95e4614a0998

МИНИСТЕРСТВО СЕЛЬСКОГО ХОЗЯЙСТВА РОССИЙСКОЙ ФЕДЕРАЦИИ  
ФЕДЕРАЛЬНОЕ ГОСУДАРСТВЕННОЕ БЮДЖЕТНОЕ ОБРАЗОВАТЕЛЬНОЕ УЧРЕЖДЕНИЕ  
ВЫСШЕГО ОБРАЗОВАНИЯ  
«КОСТРОМСКАЯ ГОСУДАРСТВЕННАЯ СЕЛЬСКОХОЗЯЙСТВЕННАЯ АКАДЕМИЯ»

Кафедра «Экономика, организация производства и бизнеса»

Утверждаю:

Декан экономического факультета

\_\_\_\_\_/ Середа Н.А. /  
11 июня 2025 года

ФОНД ОЦЕНОЧНЫХ СРЕДСТВ ПО ДИСЦИПЛИНЕ

ЭКОНОМИЧЕСКАЯ ТЕОРИЯ

Направление подготовки  
/Специальность

38.03.02 Менеджмент

Направленность (профиль)

Управление предпринимательской деятельностью

Квалификация выпускника

бакалавр

Форма обучения

очная

Срок освоения ОПОП ВО

4 года

Фонд оценочных средств предназначен для оценивания сформированности компетенций по дисциплине «Экономическая теория»

Разработчик:

Старший преподаватель кафедры экономики,  
организации производства и бизнеса Комарова М.Б.

Утвержден на заседании кафедры экономики, организации производства и бизнеса,  
протокол № 13 от «30» апреля 2025 года

Заведующий кафедрой Королева Н.Л. \_\_\_\_\_

Согласовано:

Председатель методической комиссии экономического факультета

Королева Е.В. \_\_\_\_\_

Протокол № 3 от 04 июня 2025 года

## Паспорт фонда оценочных средств

Таблица 1

№ п/п	Модуль дисциплины	Формируемые компетенции или их части	Оценочные материалы и средства	Количество
	<b>Модуль I. Введение в экономическую теорию</b>			
1	Тема 1. Предмет и метод экономической теории	УК-10 Способен принимать обоснованные экономические решения в различных областях жизнедеятельности	Опрос Тестирование	7 20
	<b>Модуль II. Микроэкономика</b>			
2	Тема 2. Рыночный механизм: взаимодействие спроса и предложения. Эластичность спроса и предложения	УК-10 Способен принимать обоснованные экономические решения в различных областях жизнедеятельности ОПК-1 Способен решать профессиональные задачи на основе знаний (на промежуточном уровне) экономической, организационной и управленческой теории	Опрос Контрольная работа Тестирование	9 5 30
3	Тема 3 Теория потребительского поведения		Опрос Тестирование	10 24
4	Тема 4. Издержки производства и прибыль		Опрос Контрольная работа Тестирование	8 7 15
5	Тема 5. Типы рыночных структур. Совершенная конкуренция и монополия		Опрос Контрольная работа Реферат Тестирование	12 4 4 23
6	Тема 6. Монополистическая конкуренция и олигополия		Опрос Тестирование	9 10
7	Тема 7. Рынки факторов производства		Опрос Тестирование	16 25
	<b>Модуль III. Макроэкономика</b>			
8	Тема 8. Предмет макроэкономики. Основные макроэкономические показатели и методы их измерения	УК-10 Способен принимать обоснованные экономические решения в различных областях жизнедеятельности ОПК-1 Способен решать профессиональные задачи на основе знаний (на промежуточном	Опрос Реферат Контрольная работа Тестирование	8 2 30
9	Тема 9. Макроэкономическое равновесие. Потребление и сбережения		Опрос Реферат Тестирование	6 3 35
10	Тема 10. Экономический рост и цикличность экономического развития		Опрос Тестирование	10 25
11	Тема 11. Макроэкономические проблемы (циклические колебания,		Опрос Реферат	10 4

	инфляция, безработица)	уровне) экономической, организационной и управленческой теории	Тестирование	44
12	Тема 12. Денежно-кредитная система и денежно-кредитная политика государства		Опрос Тестирование	10 15
13	Тема 13. Финансовая система и финансовая политика государства		Опрос Контрольная работа Тестирование	12 7 27
14	Тема 14. Социально-экономическая роль государства и его функции в рыночной экономике		Опрос Реферат Тестирование	10 3 25

# 1 ОЦЕНОЧНЫЕ МАТЕРИАЛЫ, НЕОБХОДИМЫЕ ДЛЯ ОЦЕНКИ ЗНАНИЙ, УМЕНИЙ И НАВЫКОВ ДЕЯТЕЛЬНОСТИ В ПРОЦЕССЕ ОСВОЕНИЯ ДИСЦИПЛИНЫ

Таблица 2 – Формируемые компетенции

Код и наименование компетенции	Код и наименование индикатора достижения компетенции (части компетенции)	Оценочные материалы и средства
УК-10 Способен принимать обоснованные экономические решения в различных областях жизнедеятельности	<b>МОДУЛЬ I. Введение в экономику</b>	
	ИД-1 <sub>УК-10</sub> Знает базовые принципы функционирования экономики и экономического развития	Опрос Тестирование
<b>МОДУЛЬ II. Микроэкономика</b>		
УК-10 Способен принимать обоснованные экономические решения в различных областях жизнедеятельности	ИД-1 <sub>УК-10</sub> Знает базовые принципы функционирования экономики и экономического развития	Опрос Контрольная работа Тестирование Реферат
	ИД-3 <sub>УК-10</sub> Обосновывает принятие экономических решений, использует экономические инструменты и методы при выполнении конкретных задач и достижения поставленных целей	
ОПК-1 Способен решать профессиональные задачи на основе знаний (на промежуточном уровне) экономической, организационной и управленческой теории	ИД-1 <sub>ОПК-1</sub> Формулирует и формализует профессиональные задачи, используя понятийный аппарат экономической, организационной и управленческой наук ИД-2 <sub>ОПК-1</sub> Использует основы экономических, организационных и управленческих теорий для успешного выполнения профессиональной деятельности	
<b>МОДУЛЬ III. Макроэкономика</b>		
УК-10 Способен принимать обоснованные экономические решения в различных областях жизнедеятельности	ИД-1 <sub>УК-10</sub> Знает базовые принципы функционирования экономики и экономического развития	Опрос Контрольная работа Тестирование Реферат
	ИД-2 <sub>УК-10</sub> Понимает цели и механизмы основных видов государственной социально-экономической политики ИД-3 <sub>УК-10</sub> Обосновывает принятие экономических решений, использует экономические инструменты и методы при выполнении конкретных задач и достижения поставленных целей	

<p>ОПК-1 Способен решать профессиональные задачи на основе знаний (на промежуточном уровне) экономической, организационной и управленческой теории</p>	<p>ИД-1<sub>ОПК-1</sub> Формулирует и формализует профессиональные задачи, используя понятийный аппарат экономической, организационной и управленческой наук ИД-2<sub>ОПК-1</sub> Использует основы экономических, организационных и управленческих теорий для успешного выполнения профессиональной деятельности</p>	
--	---	--

**Оценочные материалы и средства  
для проверки сформированности компетенций**

*Модуль 1 Введение в экономическую теорию*

**Тема 1 «Предмет и метод экономической теории»**

**Опрос по теме**

*Вопросы для опроса:*

1. Эволюция предмета экономической теории.
2. Отличие микроэкономики от макроэкономики.
3. Классификация потребностей и благ.
4. Последствия сочетания безграничности потребностей и ограниченности ресурсов.
5. Сущность экономического выбора и альтернативных издержек.
6. Виды экономических ресурсов.
7. Кривая производственных возможностей, ее сущность.

**Компьютерное тестирование (ТСк):**

*Выберите один вариант ответа.*

**Какое из приведенных положений не имеет отношения к определению предмета экономической теории?**

- + неограниченные производственные ресурсы
- максимальное удовлетворение потребностей
- эффективное использование ресурсов
- редкость блага

**Что изучает категория «редкость»?**

- эксклюзивность
- трудоемкость
- + ограниченность
- высокое качество

**Проблему редкости можно решить, если:**

- + открыть новые, практически неисчерпаемые источники энергии
- люди сумеют отказаться от конкуренции в пользу сотрудничества
- все страны станут постиндустриальными обществами
- проблему решить нельзя

**Экономическая теория:**

- пригодна только для изучения капиталистической системы хозяйствования
- + пригодна для изучения всех экономических систем
- не может быть полезной при изучении экономических отношений, свойственных социализму
- все предыдущие ответы неверны

**Общий уровень цен и безработицы в экономической системе изучается в курсе:**

- микроэкономики
- + макроэкономики
- менеджмента
- международных финансов

**Проблемы того, «что, как, для кого производить» могут иметь отношение:**

- только к тоталитарным системам или к обществам, где господствует централизованное планирование
- только к рыночной экономике
- только к отсталой экономике
- + к любому обществу безотносительно его социально-экономической и политической организации

**Кривая производственных возможностей показывает:**

точное количество двух товаров, которые хозяйство намерено производить  
лучшую из возможных комбинаций двух товаров

+ альтернативную комбинацию товаров при наличии данного количества ресурсов  
время, когда вступает в действие закон убывающей производительности факторов производства

**Какая из перечисленных экономических целей имеет точное количественное измерение?**

экономическая гарантия

+ полная занятость

экономическая свобода

справедливое распределение дохода

**Что из перечисленного изучает микроэкономика?**

производство в масштабе всей экономики

численность занятых в отрасли

общий уровень цен в стране

+ производство сахара и динамика его цены

**Какова экономическая цель, если общество стремится минимизировать издержки и максимизировать отдачу от ограниченных ресурсов?**

достижение полной занятости

поддержание экономического роста

экономическая безопасность

+ экономическая эффективность

**Инфляция и безработица в экономической системе изучается в курсе:**

микроэкономики

+ макроэкономики

менеджмента

международных финансов

**Какая из школ экономической теории была исторически первой?**

марксизм

+ меркантилизм

кейнсианство

неолиберализм

**Исследование экономики как целостной системы означает:**

микроэкономический анализ

+ макроэкономический анализ

позитивный подход

нормативный подход

**Причины богатства в торговле видели:**

+ меркантилисты

физиократы

монетаристы

институционалисты

**Что не относится к этапам развития экономической теории?**

экономикс

политическая экономия

+ макроэкономика

экономия

**Какая из названных характеристик не относится к рыночной экономике?**

конкуренция

+ централизованное планирование

частная собственность

свобода предпринимательского выбора

**Какие из названных функций не относятся к функциям рынка?**



ценообразование  
 + решение социальных проблем  
 регулирующая  
 стимулирование технического прогресса

**Если экономические проблемы решаются частично рынком, частично правительством, то экономика:**

командная  
 традиционная  
 + смешанная  
 рыночная

**Если экономические проблемы решаются только рынком без участия государства, то экономика:**

командная  
 традиционная  
 смешанная  
 + рыночная

**Если экономика характеризуется централизованным планированием, то она:**

рыночная  
 традиционная  
 смешанная  
 + административно-командная

**Таблица 3 – Критерии оценки сформированности компетенций**

Код и наименование индикатора достижения компетенции (части компетенции)	Критерии оценивания сформированности компетенции (части компетенции)		
	на базовом уровне	на повышенном уровне	
	соответствует оценке «удовлетворительно» 50-64% от максимального балла	соответствует оценке «хорошо» 65-85% от максимального балла	соответствует оценке «отлично» 86-100% от максимального балла
ИД-1 <sub>УК-10</sub> Знает базовые принципы функционирования экономики и экономического развития	Владеет материалом по теме, но испытывает затруднения при интерпретации базовых принципов функционирования экономики и экономического развития	По существу отвечает на поставленные вопросы, но допускает неточности при интерпретации базовых принципов функционирования экономики, допускает погрешности в формулировках определений.	Принимает активное участие в ходе проведения практического занятия, правильно отвечает на поставленные вопросы, знает понятийный аппарат экономической науки, четко формулирует базовые принципы функционирования экономики и экономического развития, обладает навыками использования основных положений и методов экономической теории.

**Тема 2 «Рыночный механизм: взаимодействие спроса и предложения.  
Эластичность спроса и предложения»**

**Опрос по теме**

Вопросы для опроса:

1. Действие закона спроса и закона предложения.
2. Определение понятий «рыночный спрос», «функция спроса» и «кривая спроса».
3. Определение понятий «рыночное предложение», «функция предложения» и «кривая предложения».
4. Как достигается равновесие на рынке товара?
5. Влияние ценовой поддержки и ценового «потолка» на функционирование рынка. Целесообразно ли государственное вмешательство в процессы рыночного ценообразования? Привести примеры удачного и неудачного государственного вмешательства из российской практики.
6. Перечислить виды эластичности спроса по цене и доходам.
7. Эластичность рыночного предложения по цене.
8. Влияние налогов и субсидий на рыночное равновесие.
9. Спрос какой группы потребителей имеет более высокую степень эластичности: высокооплачиваемой или низкооплачиваемой? Обосновать свой ответ.

**Компьютерное тестирование (ТСк):**

Выберите один вариант ответа.

**Закон спроса характеризует:**

- + прямую связь между величиной спроса на товар и ценой товара
- зависимость цены товара от спроса на него
- обратную связь между величиной спроса на товар и ценой товара
- зависимость спроса от предложения

**Закон предложения характеризует:**

- прямую связь предложения и спроса
- обратную связь предложения и цены товара
- + прямую связь предложения и цены товара
- обратную связь предложения и спроса

**Кривая рыночного спроса представляет собой линию, которая отражает:**

- готовность потребителей пожертвовать альтернативной возможностью ради данного блага
- + изменение величины спроса на благо в зависимости от изменения его цены
- желание потребителей обладать определенным количеством блага
- изменения в степени дефицитности данного блага

**Если спрос падает, то кривая спроса сдвигается:**

- + вниз и влево
- по вращению часовой стрелки
- вверх и вправо
- против вращения часовой стрелки

**Изменение спроса и изменение объема спроса различаются тем, что:**

- изменение спроса состоит из суммы изменений объемов спроса
- изменение спроса происходит в результате изменения цены
- + изменение спроса происходит в результате изменения неценовых факторов
- изменение объема спроса – это сдвиг кривой спроса

**Что может вызвать падение спроса на товар X?**

- + уменьшение доходов потребителей
- увеличение цен на товары-субституты для товара X

ожидание роста цен на товар X

падение предложения товара X

**Спрос и предложение могут быть использованы для объяснения координирующей роли цены:**

на товарном рынке

на рынке ресурсов

на денежном рынке

+ на любом рынке

**Что из перечисленного приведет к изменениям в предложении?**

изменение числа продавцов

повышение налога на добавленную стоимость в производстве блага

внедрение более эффективной технологии производства блага

+ все перечисленное верно

**Рост цен на материалы, необходимые для производства товара X, вызовет:**

сдвиг кривой спроса вправо

+ сдвиг кривой предложения влево

сдвиг кривой спроса и кривой предложения влево

сдвиг кривой предложения вправо

**Если 2 товара взаимозаменяемы, то рост цены на первый вызовет:**

падение спроса на 2-й товар

+ рост спроса на 2-й товар

увеличение объема спроса на 2-й товар

падение величины спроса на 2-й товар

**Совершенствование технологии сдвигает:**

кривую спроса вверх и вправо

кривую спроса вниз и вправо

+ кривую предложения вниз и вправо;

кривую предложения вверх и влево.

**Готовность покупать дополнительные единицы производственного товара только по более низкой цене лучше всего объясняет:**

эффект замещения

+ принцип убывающей предельной полезности

эффект дохода

закон предложения

**Если доходы потребителей снизятся, то можно предположить, что:**

кривая спроса сдвинется вправо;

+ кривая спроса сдвинется влево;

рыночная цена блага возрастет;

будет потребляться то же количество блага по более низкой цене.

**Если на рынке существует избыточный спрос, это является причиной того, что:**

цена на товар превышает равновесную цену

товар является низшим

объем предложения превышает объем спроса

+ цена товара ниже равновесной цены

**Ценовая эластичность спроса будет выше:**

на товары первой необходимости, чем на предметы роскоши

в тех случаях, когда потребители используют данный товар с наибольшей для себя пользой

чем больше издержки производства товаров

+ чем менее необходим товар потребителю

**Если трехпроцентное сокращение цены на товар приводит к пятипроцентному увеличению объема спроса на него, то этот спрос:**

неэластичен

+ эластичен  
единичной эластичности  
абсолютно эластичен

**Если цена товара неэластичного спроса выросла с 10 руб. до 12 руб., то выручка:**  
сократилась

+ выросла  
осталась неизменной  
нет правильного ответа

**Если товары взаимозаменяемые, то рост цены на первый товар, вызовет:**

+ падение спроса на второй товар  
рост спроса на второй товар  
падение цены на второй товар  
рост спроса на первый товар

**Если при снижении цены одного товара, возрос спрос на другой товар, то эти товары:**  
субституты

+ комплементы  
нормальные  
низшей категории

**Если спрос эластичный, то повышение цены товара на 15%, вызовет:**

повышение спроса на товар на 20%  
снижение спроса на товар на 15%  
+ снижение спроса на товар на 20%  
повышение спроса на товар на 15%

**Если спрос эластичный, то между валовым доходом и ценой товара существует:**  
прямая связь

+ обратная связь  
отсутствует какая-либо связь  
единичная связь

**Если цена товара возросла на 15%, а спрос снизился на 10%, то спрос:**

эластичный  
+ неэластичный  
единичной эластичности  
абсолютно неэластичный

**Рынок товаров и услуг находится в равновесном состоянии, если:**

+ спрос равен предложению  
цена равна издержкам  
объем предложения равен объему спроса  
уровень технологии меняется постепенно

**Если предложение и спрос на товар возрастают, то:**

цена повысится  
+ увеличивается общее количество товара  
цена понизится  
благосостояние общества возрастет

**Одновременное равномерное падение спроса и предложения всегда приведет к:**

снижению цены равновесия  
росту цены равновесия  
+ снижению объема равновесия  
к снижению как равновесной цены, так и равновесного объема

**Эластичность спроса по цене – это:**

+ показатель степени чувствительности изменения величины спроса на благо в зависимости от изменений цены блага  
показатель степени чувствительности рыночного спроса в зависимости от изменений в

параметрах спроса

показатель степени изменения цены спроса в зависимости от изменений в параметрах спроса

показатель степени чувствительности величины спроса в зависимости от устойчивости рыночной равновесной цены

**Эластичность предложения по цене – это:**

+ показатель степени чувствительности изменения величины предложения блага в зависимости от изменения цены блага

показатель степени чувствительности рыночного предложения блага на изменения в уровне издержек производства блага

показатель степени чувствительности изменения рыночного предложения от изменения цены на производственные ресурсы

показатель степени чувствительности изменений в объеме предложения блага на изменения в доходе потребителя блага

**Товар можно отнести к недоброкачественным, если:**

+ эластичность его спроса по доходу равна -0,5

ценовая эластичность его спроса равна 1

перекрестная эластичность равна -0,7

эластичность спроса по доходу равна 1,3

**Если коэффициент перекрестной эластичности двух товаров равен + 1,4, то это свидетельствует о том, что:**

товары являются дополняющими благами

+ товары являются субститутами

предложение товаров увеличится в 1,4 раза при снижении цены

спрос на оба товара снижается

**Если цена на товар выросла на 18%, а объём его предложения при этом возрос на 23%, то предложение данного товара:**

абсолютно эластично

абсолютно неэластично

+ эластично

неэластично

### ***Тема 3 «Теория потребительского поведения»***

#### ***Опрос по теме***

##### ***Вопросы для опроса:***

1. Какие факторы определяют выбор потребителя в рыночной системе?
  2. В каких случаях поведение потребителя следует считать рациональным?
  3. Почему рациональное поведение не всегда присуще реальным потребителям?
  4. Каким образом изменение цены товара и дохода потребителя влияют на количество и структуру набора благ, которые он покупает?
  5. Какие из основных постулатов теории потребительского поведения носят абсолютный, вечный характер, а какие — относительный, временный?
  6. Можно ли рассматривать выделенные Х. Лейбенштайном эффекты как нерациональное потребительское поведение?
  7. Как соотносятся эффект замещения и эффект дохода для разных категорий товаров: лучших, худших и Гиффена?
  8. Чем определяются форма и месторасположение кривых безразличия? Почему кривые безразличия не пересекаются?
  9. Какие факторы определяют бюджетное ограничение потребителя?
- Всегда ли потребитель действует в рамках данного бюджетного ограничения? Какие другие (кроме денежного) виды ограничений существуют для потребителя?

10. Какие факторы влияют на благосостояние потребителя? Зависят ли эти факторы от типа экономической системы?

**Компьютерное тестирование (ТСк):**

*Выберите один вариант ответа.*

**Массовый спрос в 1994 г. на акции АО "МММ" объясняется:**

эффектом присоединения к большинству;  
эффектом сноба;  
эффектом Веблена;  
+ спекулятивным спросом.

**Поведение российских избирателей на выборах в конце 1993 г., когда совершенно неожиданно высокий рейтинг завоевала ЛДПР, можно объяснить главным образом:**

функциональным спросом на политические услуги партии В. В. Жириновского;  
эффектом присоединения к большинству;  
+ эффектом сноба;  
эффектом Веблена.

**Если будет изобретен вечный двигатель, то из теории потребительского поведения исчезнет постулат:**

множественности видов потребления;  
+ ненасыщенности;  
транзитивности;  
все постулаты сохраняют свою силу.

**Основоположником австрийской школы, представители которой развивали кардиналистскую теорию полезности, является:**

Г. Госсен;  
+ К. Менгер;  
Е. Бем-Баверк;  
Й. Шумпетер.

**В равновесии рациональный индивид потребляет 2 кг помидоров по цене 3 руб. за 1 кг и 4 кг груш по цене 5 руб. за 1 кг. Чему равна для него предельная норма замены груш помидорами:**

2/4;  
1/4;  
+ 3/5;  
5/3?

**Какого экономиста Дж. Хикс называл своим предшественником в разработке проблемы бюджетных ограничений потребителя:**

В. Парето;  
+ Е. Слуцкого;  
Р. Аллена;  
К. Маркса?

**Следующий товар является малоценным:**

шампанское;  
бумажные салфетки;  
+ прошлогодние газеты;  
путешествие в Альпы.

**Наташа потребляет в месяц 2 кг мяса по цене 15 руб. за 1 кг и 5 кг хлеба по цене 2 руб. за 1 кг. Предельная норма замены мяса хлебом в состоянии равновесия для нее равна:**

3/4;  
5/12,  
5/2,  
+ 2/15.

**Бюджетное ограничение для потребителя представляет собой:**

- линию общей полезности товара;
- линию предельной полезности товара;
- +ограничение, налагаемое на выбор потребителя;
- линию максимального удовлетворения потребителя.

**Для Саши потребление буханки хлеба ценой 2 руб. приносит удовлетворение в размере 10 утилей. Какое количество утилей удовлетворения принесет ему потребление литра молока по цене 5 руб., если он находится в состоянии равновесия:**

- 10;
- 20;
- +25;
- 50?

**Если  $MU_x$  — предельная полезность хлеба, а  $MU_v$  — предельная полезность вина и  $P_x$  — цена батона хлеба,  $P_v$  — цена бутылки вина, то для рационального потребителя в состоянии равновесия будет верным следующее утверждение:**

- $MU_x = MU_v$ ;
- + $MU_x : MU_v = P_x : P_v$ ;
- $P_x = P_v$ ;
- $MU_x : MU_v = P_v : P_x$ .

**Изменение цены товара вызывает:**

- + эффект замещения;
- эффект выкупа;
- эффект Гиффена;
- инфляционный эффект.

**Если для товара А величина спроса растет вместе с ростом цены, то товар А является:**

- + товаром Гиффена,
- драгоценным товаром,
- обычным товаром;
- ограниченным товаром.

**Коля покупает подарки родным на Новый год. Что из следующих утверждений описывает проблему его рационального выбора:**

- +Он купит подарок тогда, когда предельная полезность подарка будет соответствовать его цене
- Он не обращает внимания на цену и руководствуется только своими предпочтениями.
- Его бюджет ограничен, поэтому он обращает внимание только на цену.
- Коля очень любит своих родных, поэтому принципы рационального выбора к нему не применимы?

**Какие из следующих товаров будут характеризоваться наибольшей стабильностью предпочтений во времени:**

- пицца;
- +мясо;
- гамбургеры;
- "большой Мак" фирмы "МакДональдс"?

**Увеличение цены обычного товара приводит к смещению равновесия потребителя на карте кривых безразличия (при прочих равных условиях)"**

- вправо, вверх,
- вправо, вниз;
- +влево, вверх или вниз,
- движение вдоль той же самой кривой безразличия.

**Оптимальное правило покупки состоит в следующем:**

- цена товара соответствует его общей полезности;
- +предельная полезность товара соответствует его цене;
- наивысшая цена должна быть меньше предельной полезности товара;

такого не существует, каждый руководствуется собственными представлениями.

**Ограничением рационального поведения потребителя является следующий факт:**

коррупционное поведение правительства;

люди иррациональны по природе;

+отсутствие необходимой информации,

Некачественный товар.

**Предпочтения потребителя имеют следующий вид:**

Количество единиц товара, в шт.	1	2	3	4	5
Общая полезность	100	120	135	145	153

Предельная полезность потребления третьей единицы блага равна:

20;

+15;

10;

8.

**Доход Кати составляет 10 руб. в день. Коробок спичек стоит 0,1 руб., а пачка сигарет — 5 руб. Наклон линии бюджетного ограничения Кати, если она тратит доход полностью на спички и сигареты, будет равен (спички на вертикальной оси).**

1/50;

-1/50,

50;

+50.

**Когда цена товара увеличивается, эффект замещения означает:**

+снижение потребления данного товара и увеличение потребления других товаров;

повышение потребления данного товара и снижение потребления других товаров;

снижение потребления данного товара и других товаров;

снижение потребления данного товара и никаких изменений в потреблении других товаров.

**Если рациональный потребитель тратит 10 руб. в день на мясо и 2 руб. на хлеб, то:**

+рубль, истраченный на последний килограмм мяса, приносит столько же полезности, что и рубль, истраченный на последний килограмм хлеба,

потребитель предпочитает мясо, а не хлеб;

мясо приносит потребителю большую полезность, чем хлеб;

предельная полезность мяса выше предельной полезности хлеба.

**В положении равновесия Дима потребляет 2 кг помидоров по цене 3 руб. за 1 кг и 4 кг груш по цене 5 руб. за 1 кг. Чему равна для него предельная норма замены помидоров грушами?**

2/4;

1/4;

3/5;

+5/3?

**Предельная полезность товара А равна 100. Цена товара А равна 10. Цена товара В равна 5.**

**Предельная полезность товара В в равновесии равна:**

1/2;

20;

+50;

10.

#### **Тема 4 «Издержки производства и прибыль»**

##### **Опрос по теме**

*Вопросы для опроса:*

1. Различия бухгалтерских и экономических издержек.

2. Явные и неявные издержки (привести пример).



3. Нормальная прибыль.
4. Практическая значимость деления издержек на постоянные и переменные издержки.
5. Графические интерпретации различных видов издержек.
6. Кратко- и долгосрочный периоды в экономическом понимании.
7. Средние издержки, их практическая значимость.
8. Можно ли утверждать, что крупные предприятия всегда имеют преимущества по издержкам по сравнению с малыми предприятиями?

**Компьютерное тестирование (ТСк):**

*Выберите один вариант ответа.*

**Экономические издержки – это:**

- внешние издержки + нормальная прибыль
- бухгалтерские издержки + внешние издержки
- + бухгалтерские издержки + внутренние издержки
- бухгалтерские издержки + безвозвратные издержки

**Переменные издержки фирмы – это:**

- + издержки, которые меняются в зависимости от изменения объема фирмы
- издержки, которые несет фирма даже в том случае, если продукция не производится
- средние общие издержки
- альтернативные издержки

**Постоянные издержки фирмы – это:**

- затраты на ресурсы по ценам, действовавшим в момент их приобретения
- минимальные издержки производства любого объема продукции при наиболее благоприятных условиях производства
- + издержки, которые несет фирма даже в том случае, если продукция не производится
- ни один из ответов не является верным

**Средние постоянные издержки производства отличаются от средних переменных издержек тем, что их величина:**

- всегда меньше величины средних переменных издержек
- не зависит от изменения объема краткосрочного выпуска
- не зависит от объема долгосрочного выпуска
- + является постоянно убывающей

**Приращение общих издержек, вызванное увеличением объема производства на одну единицу, – это:**

- явные издержки
- + предельные издержки
- средние издержки
- альтернативные издержки

**Изменения средних долгосрочных издержек производства зависят от:**

- + характера действия эффекта масштаба
- эффективности использования переменных факторов производства
- эффективности использования постоянного фактора производства
- все перечисленное верно

**Теория издержек утверждает, что при положительном эффекте масштаба средние долгосрочные издержки производства:**

- растут
- остаются неизменными
- + убывают
- имеют U-образную форму

**В микроэкономическом анализе понятие «нормальная прибыль» означает:**

- среднеотраслевую норму прибыли
- часть бухгалтерской прибыли, не облагающейся налогами

+ минимальная прибыль, необходимая для того, чтобы фирма оставалась в пределах данного направления деятельности

прибыль, получаемая фирмой при  $MC = MR$

**Точка безубыточности означает:**

объем продаж, при котором выручка от реализации совпадает с издержками производства  
разграничение зон прибылей и убытков

$TR = TC$

+ все ответы равны

**Экономическая прибыль фирмы – это:**

синоним бухгалтерской прибыли

+ величина дохода, превышающая величину экономических издержек фирмы

величина дохода, полученная фирмой после вычета налогов

разница между общей выручкой и бухгалтерскими издержками

**Экономические издержки:**

превышают явные и неявные издержки на величину нормальной прибыли

+ включают в себя явные и неявные издержки, в том числе нормальную прибыль

включают в себя явные издержки, но не включают неявные

включают в себя неявные издержки, но не включают явные

**Если минимальное значение  $AVC = 34$  ден. ед., минимальное значение  $AC = 45$  ден. ед., то в каком денежном интервале фирма сможет только минимизировать убытки:**

$P > 34$

$P < 34$

+  $34 < P < 45$

$P > 45$

**Валовые (общие) издержки – это:**

$MC + AC$

$AFC + AVC$

+  $FC + VC$

$AMC + AVC$

**Если валовый доход превышает валовые издержки, то имеют место:**

убытки

+ прибыль

затраты

капитал

**В краткосрочном периоде фирма производит 1000 ед. продукции. Средние переменные издержки составляют 4 руб. Средние постоянные – 1 руб. Валовые издержки составят:**

1000 руб.

4400 руб.

+ 5000 руб.

невозможно определить на основе имеющихся данных

## **Тема 5 «Типы рыночных структур. Совершенная конкуренция и монополия»**

### **Опрос по теме**

Вопросы для опроса:

1. Чем определяется структура рынка? Какие критерии можно предложить для оценки той или иной структуры рынка?

2. Что представляет собой совершенная конкуренция, каковы ее основные черты?

3. Характерные признаки монополии?

4. Правило максимизации прибыли. Особенность этого правила для совершенно конкурентной фирмы?

5. Основные этапы определения оптимального объема производства, максимизирующего прибыль, совершенно конкурентной фирмы?
6. Основные этапы определения оптимального объема производства, максимизирующего прибыль, монополии?
7. Можно ли графически проиллюстрировать выбор оптимального объема производства, максимизирующего прибыль, совершенно конкурентной фирмы?
8. Особенность определения оптимального объема выпуска продукции, максимизирующего прибыль, в долгосрочном периоде?
9. Как графически выглядит установление долгосрочного равновесия фирмы в условиях совершенной конкуренции и монополии?
10. Препятствуют ли патенты, лицензии и авторские права конкуренции? И если да, должны ли такие ограничения конкуренции иметь место в экономике?
11. Каковы источники монопольной власти?
12. Почему монополист не может назначить любую цену и произвести любое количество товара, какое захочет?

### **Компьютерное тестирование (ТСк):**

*Выберите один вариант ответа.*

**Совершенная конкуренция – это тип рыночной структуры, когда:**

максимизируется прибыль

рынок находится в состоянии равновесия

+ продавцы и покупатели приспосабливаются к равновесному состоянию рынка

экономическая прибыль равна бухгалтерской прибыли

**Монополистическая ценовая дискриминация – это когда:**

цена на рынке устанавливается ниже равновесной

+ монополист устанавливает различные цены разным покупателям на один и тот же товар с целью увеличения общей прибыли

цена не удовлетворяет ни продавцов, ни покупателей

монополист устанавливает одну цену разным покупателям

**Если картель полностью контролирует объём выпуска, то он будет вести себя как:**

+ монополия

совершенный конкурент

ценовой лидер

фирма прайс-тейкер

**При ценовой дискриминации фирма-монополист установит более низкую цену на том рынке, где:**

спрос менее эластичен

единичный спрос

нулевой спрос

+ спрос более эластичен

**Какой из следующих рынков больше всего соответствует условиям совершенной конкуренции?**

стали

услуг парикмахерских

тракторов

+ акций и облигаций фирм

**Условие равновесия конкурентной фирмы в краткосрочном периоде:**

при объеме производства, обеспечивающего цену на товар ниже собственных предельных издержек производства ( $P$  меньше  $MC$ )

при объеме производства, обеспечивающего цену на товар больше собственных предельных издержек производства ( $P$  больше  $MC$ )

при объеме производства и цене, обеспечивающих получение прибыли

+ при объеме производства, обеспечивающего равенство цены на товар и собственных предельных издержек производства ( $P=MC$ )

**Какой из перечисленных продуктов никогда не производился в рамках картельного соглашения производителей?**

нефть

+ бытовые электроприборы

сахар

кофе

**Монополист может получить экономическую прибыль:**

только в краткосрочном периоде

только в долгосрочном периоде

никогда

+ и в долгосрочном, и в краткосрочном периоде

**В группу условий совершенной конкуренции не входит условие:**

существует много продавцов и покупателей данного товара и каждый из них поставляет или покупает лишь малую долю всего объема товара

все покупатели анонимны с точки зрения продавца

отсутствуют входные барьеры в отрасль

+ информация о рыночном уровне цен для продавцов и покупателей недоступна

**В условиях совершенной конкуренции цена равна минимальным средним издержкам:**

в краткосрочном периоде

+ в долгосрочном периоде

всегда

никогда

**Если предельные издержки монополиста положительны, то он будет производить там, где:**

+ эластичность спроса больше единицы

эластичность спроса меньше единицы

эластичность спроса равна единице

эластичность спроса равна нулю

**В условиях совершенной конкуренции цена определяется пересечением спроса и предложения:**

+ всегда

никогда

в краткосрочном периоде

в долгосрочном периоде

**Примером естественной монополии является:**

компания LENOVO

московский банк «Глория»

концерн «Известия»

+ ОАО «Газпром»

**Чем более неэластичен спрос на продукцию монополиста, тем:**

меньше величина прибыли

быстрее величина прибыли минимизируется

+ больше величина прибыли

меньше его монопольная власть

**Всё нижеперечисленное является формой ценовой дискриминации, за исключением:**

совершенной ценовой дискриминации

+ различий в ценах, вызванных различиями в издержках производства

различий в ценах, вызванных различиями в объеме покупок

различий в ценах на различных сегментах рынка

**Рост экономической прибыли на конкурентном рынке не способствует:**

расширению производства в действующих фирмах

притоку в отрасль новых фирм

+ повышению рыночной цены конкурирующего товара

повышению цен на используемые ресурсы

**Дуополия – это рыночная структура, при которой:**

несколько фирм занимают доминирующее положение на рынке

+ два продавца являются единственными производителями однородного товара, не имеющего близких заменителей

лидируют фирмы с существенно более низкими издержками

фирмы действуют в условиях высокой неопределенности

**В отличие от конкурентной фирмы монополист:**

не может назначить любую цену на свой продукт

может минимизировать издержки при равенстве предельного дохода и предельных издержек

не может произвести любой объем продукции и продать ее по любой цене

+ может выбрать комбинацию цены и объема выпуска, которая дает ему максимум прибыли

**Картель - это:**

вид монополии

+ форма сговора фирм по объемам и ценам на товар

форма объединения новых фирм с общим управлением и уставом

закрытое акционерное общество

**Какое из следующих утверждений правильно относительно монополии, максимизирующей прибыль?**

она установит цену, которая равна ее предельным затратам

она установит цену, которая меньше, чем предельные затраты

+ она установит цену, которая выше ее предельных затрат

она назначит цену, соответствующую неэластичному отрезку кривой спроса на свою продукцию

**Монопольная власть снижается, когда:**

+ увеличивается число фирм и растет конкуренция

спрос неэластичен

фирмы сотрудничают между собой

монополия владеет редким природным ресурсом

**Ценовая дискриминация – это:**

+ продажа одного и того же товара по разной цене

продажа по одной цене разных товаров

продажа товаров по максимальной цене

покупка товара по минимальной цене

**В условиях совершенной конкуренции фирма, стремящаяся получить экономическую прибыль, не будет производить товар, если:**

производство товара затратно

спрос на товар не постоянный

на рынке большое количество конкурентов

+ цена не будет обеспечивать нормальную прибыль

## **Тема 6 «Монополистическая конкуренция и олигополия»**

### **Опрос по теме**

Вопросы для опроса:

1. Что такое монополистическая конкуренция? Основные черты монополистической конкуренции?

2. Как устанавливается краткосрочное равновесие фирмы – монополистического конкурента?

3. Как устанавливается долгосрочное равновесие фирмы – монополистического конкурента?

4. Что такое олигополия? Основные характеристики олигополии?
5. Основные показатели измерения концентрации рынка?
6. Основные модели олигополии?
7. Как олигополист выбирает объем производства, максимизирующий прибыль, в краткосрочном и долгосрочном периодах при тайном сговоре?
8. Какие методы ценообразования применяют олигополисты?
9. Почему неценовая конкуренция чаще всего встречается в олигополистических отраслях экономики?

**Компьютерное тестирование (ТСк):**

*Выберите один вариант ответа.*

**Для олигополии, как рыночной модели, нехарактерно:**

образование картелей  
лидерство в ценах  
+ существование фирм прайс-тейкеров  
ломаная кривая спроса

**Олигополия - это:**

фирма монополия  
конкурирующая фирма  
фирма банкрот  
+ одна из моделей рынка, объединяющая несколько крупных фирм, имеющих наибольший вес суммарного оборота и множество мелких фирм, производящих однородную продукцию

**На олигополистическом рынке цены:**

менее устойчивы, чем в условиях монополистической конкуренции  
+ более устойчивы, чем в условиях монополистической конкуренции  
практически не изменяются  
устойчивость цены не зависит от рыночной модели

**Если производство в отрасли распределено между несколькими фирмами, контролирующими рынок, то такая структура рынка называется:**

совершенной конкуренцией  
монополистической конкуренцией  
+ олигополией  
Монополией

**Что из следующего является примером равновесия Курно:**

+ "дилемма заключенного"  
картель  
рынок труда  
монополистическая конкуренция

**Если монополия в отрасли сменяется монополистической конкуренцией, то от этого:**

выигрывают продавцы  
+ выигрывают покупатели  
выигрывают и продавцы, и покупатели  
никто не выигрывает

**Монополистическая конкуренция характеризуется тем, что:**

фирмы не могут свободно входить в рынок и выходить из него  
на рынке действует небольшое число фирм  
+фирмы, действующие на рынке, выпускают дифференцированную продукцию  
на рынке функционирует одна фирма

**Примером монополистической конкуренции является:**

производство зерна  
городской метрополитен  
+ журнал «Вопросы экономики»

«Газпром»

**Долгосрочное равновесие на рынке монополистической конкуренции ведет к:**

превышению цен над средними издержками

снижению индекса Херфиндаля—Хиршмана

превышению предельных издержек над рыночными ценами

+ исчезновению экономической прибыли

**Монополистическая конкуренция возникает на рынках тех товаров, где эластичность спроса:**

как правило, низка

приблизительно равна единице;

+ как правило, высока

может быть какой угодно

## **Тема 7 «Рынки факторов производства»**

### **Опрос по теме**

*Вопросы для опроса:*

1. Отличие рынков факторов производства от рынков товаров и услуг?
2. Предельная доходность ресурса, что она отражает?
3. Что такое предельные издержки ресурса?
4. Правило эффективного использования ресурсов: соблюдение наименьших издержек, максимизации прибыли фирмы?
5. Особенности формирования спроса на трудовые ресурсы.
6. Сущность заработной платы.
7. При каких ставках заработной платы (низких или высоких) эффект замещения превышает эффект дохода?
8. Что представляет собой экономическая рента на рынке труда?
9. Спрос и предложение на рынке капитала.
10. Разница между реальным и финансовым капиталом.
11. Дисконтирование, его сущность.
12. Чем руководствуются инвесторы, принимая решения об осуществлении инвестиций?
13. «Земля», как фактор производства, в широком и узком смыслах.
14. Дифференциальная и чистая рента. Причины их образования.
15. Как образуется земельная рента?
16. Равновесие на рынке земли. Цена земли.

### **Компьютерное тестирование (ТСк):**

*Выберите один вариант ответа.*

**Рыночный спрос на ресурс – это:**

спрос со стороны всех форм отрасли

спрос отдельной фирмы

+ спрос всех фирм всех отраслей, в которых используется данный ресурс

не верен ни один из предыдущих ответов

**Кто на рынке труда относится к категории «занятых»?**

рабочий, уволившийся по собственному желанию

преподаватель, который по состоянию здоровья не может больше работать

+ токарь, переведенный на неполный рабочий день

бывший шахтер, осваивающий новую профессию из-за кризиса в отрасли

**Какие из нижеприведенных факторов являются необходимыми для функционирования рынка труда?**

миграция населения

рост предложения денег

наличие бирж труда

+ наличие рабочих мест

**В численность рабочей силы включаются:**

студенты дневных отделений

+ преподаватели вузов во время летних отпусков

лица без определенного места жительства

лица, ищущие работу

**Параметры, отражающие монопсонию на рынке труда:**

+ спрос на рабочую силу предъявляется только одним предприятием

предложение рабочей силы характеризуется конкуренцией

спрос на рынке труда характеризуется конкуренцией

предложение труда ограничено

**При наличии эффекта замещения на рынке труда:**

+ предложение на рынке труда увеличивается

ценность рабочего времени ниже ценности свободного времени

потребности работника относительно насыщены

стоимость техники относительно низкая

**Спрос на такой ресурс, как труд, зависит от:**

цены продукта, производимого с помощью этого ресурса

цены данного ресурса

цен взаимодополняемых ресурсов

+ все ответы верны

**Изменения в уровне реальной заработной платы можно определить, сопоставляя изменения в уровне номинальной зарплаты с изменениями:**

+ уровня цен на товары и услуги

нормы прибыли

ставки налогообложения

продолжительности рабочего времени

**Номинальная заработная плата возросла на 30%, а средний уровень цен возрос на 40%.**

**Реальная заработная плата:**

не изменилась

увеличилась

+ уменьшилась

все ответы не верны

**Зависимость спроса на инвестиции от ставки процента:**

прямая

+ обратная

прямо пропорциональная

нейтральная

**Основной капитал - это:**

сырье, материалы

материальные средства, участвующие только в одном производственном цикле

готовая продукция

+ многократно используемые в производственных циклах материальные средства, которые переносят свою стоимость на создаваемую продукцию по частям

**Доход на капитал называется:**

дисконтом

дивидендом

+ процентом

акцизом

**Дисконтирование – это:**

определение расчетной величины чистой прибыльности капитала



+ определение текущей стоимости активов  
определение инвестиций на определенный период  
нет верного ответа

**Укажите формулу дисконтирования:**

+  $Dt / (1 + r)^t$   
 $Dt / (1 - r)^t$   
 $Dt / 1 + rt$   
 $(1 + r)^t / Dt$

**Инвестиции имеют смысл в случае, если:**

годовой доход от них равен проценту по банковским вкладам  
+ годовой доход от них выше процента по банковским вкладам  
процент по банковским вкладам выше годового дохода от инвестиций  
нет верного ответа

**При принятии решений об инвестициях фирмы принимают во внимание:**

номинальную процентную ставку  
+ реальную процентную ставку  
разность между номинальной и реальной процентной ставкой  
другие факторы

**В 2018 г. уровень цен не изменяется, номинальная ставка процента - 6%. В 2019 г. темп инфляции составил 3%. Если реальная ставка процента в 2019 г. остается на том же уровне, что и в 2018 г., то номинальная ставка процента в 2019 г. должна:**

вырасти на 9%  
+ вырасти на 3%  
снизиться на 3%  
остаться неизменной на уровне 6%

**Если номинальная процентная ставка составляет 10%, а темп инфляции определен в 4% в год, то реальная процентная ставка составит:**

14%  
6%  
2,5%  
-6%

**Положительное решение о строительстве моста, который будет служить 200 лет и приносить ежегодно прибыль в размере 10%, будет принято при условии, что процентная ставка составляет:**

не более 20%  
10% или менее  
10% или более  
+ для принятия решения отсутствует информация

**Рост процентной ставки приведет к:**

росту спроса на заемные средства  
сокращению предложения заемных средств  
+ сокращению спроса на заемные средства  
спрос о на заемные средства останется неизменным

**Отличие земли как фактор производства от других факторов производства:**

свободно воспроизводится  
+ предложение земли является величиной данной, фиксированной, не подлежащей увеличению  
является продуктом человеческого труда  
движима в пространстве

**Предложение земли:**

+ абсолютно неэластично  
эластично  
абсолютно эластично

характеризуется единичной эластичностью

**Земельная рента увеличивается при:**

- + росте спроса на землю
- падении спроса на землю
- увеличении предложения земли
- снижении цены земли

**Цена земли зависит от:**

- величины ежегодной ренты
- ставки банковского процента
- величины альтернативного дохода покупателя земли
- + всех перечисленных условий

**Если арендная плата за землю составляет 7500 руб., а ставка процента 5% годовых, то при какой цене участка земли его покупка будет выгодна для фермера?**

не более 200 тыс. руб.

не более 500 тыс. руб.

+ не более 150 тыс. руб.

не более 750 тыс. руб.

**Таблица 4 – Критерии оценки сформированности компетенций**

Код и наименование индикатора достижения компетенции (части компетенции)	Критерии оценивания сформированности компетенции (части компетенции)		
	на базовом уровне	на повышенном уровне	
	соответствует оценке «удовлетворительно» 50-64% от максимального балла	соответствует оценке «хорошо» 65-85% от максимального балла	соответствует оценке «отлично» 86-100% от максимального балла
ИД-1 <sub>УК-10</sub> Знает базовые принципы функционирования экономики и экономического развития ИД-3 <sub>УК-10</sub> Обосновывает принятие экономических решений, использует экономические инструменты и методы при выполнении конкретных задач и достижения поставленных целей ИД-1 <sub>ОПК-1</sub> Формулирует и формализует профессиональные задачи, используя понятийный аппарат экономической, организационной и управленческой наук ИД-2 <sub>ОПК-1</sub> Использует основы экономических,	Владеет материалом по теме, но испытывает затруднения при интерпретации базовых принципов функционирования экономики: экономического взаимодействия спроса и предложения, понятия издержек производства и их классификации, основных закономерностей конкурентного и монопольного рынков, спроса и предложения на рынках факторов производства; в обосновании принятых экономических решений, и использовании экономических инструментов и методов при выполнении конкретных задач; при использовании понятийного аппарата экономической науки, с	Показал знания базовых принципов функционирования экономики: экономического взаимодействия спроса и предложения, понятия издержек производства и их классификации, основных закономерностей конкурентного и монопольного рынков, спроса и предложения на рынках факторов производства; не в полной мере владеет навыками обоснования экономических решений, применения экономических инструментов и методов при выполнении конкретных задач; допускает погрешности при использовании понятийного аппарата экономической науки, формулируя и формализуя	Принимает активное участие в ходе проведения практического занятия, правильно отвечает на поставленные вопросы, показал отличные знания базовых принципов функционирования экономики: экономического взаимодействия спроса и предложения, понятия издержек производства и их классификации, основных закономерностей конкурентного и монопольного рынков, спроса и предложения на рынках факторов производства; владеет навыками обоснования экономических решений, применения инструментов и методов при выполнении конкретных задач; использует понятийный аппарат экономической

организационных и управленческих теорий для успешного выполнения профессиональной деятельности	трудом формулирует и формализует профессиональные задачи, использует основы экономических теорий для успешного выполнения профессиональной деятельности.	профессиональные задачи; использует основы экономических теорий для успешного выполнения профессиональной деятельности.	науки, формулируя и формализуя профессиональные задачи; способен использовать основы экономических теорий для успешного выполнения профессиональной деятельности.
--	--	---	---

### Модуль III Макроэкономика

#### Тема 8 «Предмет макроэкономики.

#### Основные макроэкономические показатели и методы их измерения»

##### Опрос по теме

Вопросы для опроса:

1. Отличия макроэкономического и микроэкономического подходов к анализу экономики.
2. Национальная экономика, ее элементы.
3. Сущность системы национальных счетов, ее роль в экономике.
4. Экономическое содержание понятия валовой национальный продукт.
5. Отличия валового внутреннего продукта от валового национального продукта.
6. Методы расчета валового внутреннего продукта.
7. Отличие номинального валового национального продукта от реального ВВП.
8. Индексы цен, их расчет.

##### Компьютерное тестирование (ТСк):

Выберите один вариант ответа.

##### Что такое валовой внутренний продукт (ВВП)?

- сумма всех произведенных товаров и услуг
- сумма всех реализованных товаров и услуг
- сумма всех готовых товаров и услуг
- + рыночная стоимость всех конечных товаров и услуг

##### Валовой внутренний продукт измеряется:

- в основных ценах
- в ценах производителя
- + в рыночных ценах
- в экспортных ценах

##### Дефлятор ВВП:

- + равен отношению номинального ВВП к реальному ВВП
- равен отношению реального ВВП к номинальному ВВП
- уменьшается при ускорении инфляции
- нет верного ответа

##### Располагаемый доход - это:

- + личный доход минус индивидуальные налоги и неналоговые платежи
- сумма, включающая заработную плату, жалование, ренту и доход в форме процента на капитал
- минус налог на личный доход
- зарплата и жалование, доход в форме процента на капитал минус налог на личный доход
- зарплата и жалование

##### Для определения величины национального дохода надо:

- вычесть из величины ВВП сумму косвенных налогов
- + уменьшить величину ВВП на сумму износа используемых основных фондов
- вычесть из величины ВВП сумму амортизационных отчислений за данный период, сумму косвенных налогов и объем государственных субсидий

прибавить к ВВП сумму государственных социальных трансфертных платежей

**Источником личных доходов являются:**

доходы от собственности

доходы от сданного в аренду жилья

трансфертные платежи

+ заработная плата, доходы от собственности, рентные платежи, трансфертные платежи

**ВВП не включает:**

продукцию, произведенную внутри страны национальным капиталом

+ поступление из-за рубежа, связанные с факторными доходами

материальные и нематериальные услуги, оказанные внутри страны

продукцию, произведенную внутри страны иностранным капиталом

**Величина ВВП зависит от:**

количества произведенных благ

количества использованных при производстве благ ресурсов

+ количества произведенных благ и их цен

динамики цен

**Чтобы перейти от валового национального продукта (ВНП) к чистому национальному продукту (ЧНП), необходимо:**

прибавить чистые инвестиционные расходы

вычесть из ВНП чистые инвестиции

добавить к ВНП величину амортизации

+ вычесть износ основных фондов

**Из указанных ниже доходов или расходов НЕ учитывается при подсчете ВВП данного года:**

арендная плата за сдачу квартиры

+ покупка облигаций автомобильной компании

рост запасов компании

заработная плата прислуги

**Личный доход – это:**

стоимость произведенных за год товаров и услуг

+ доход, полученный домохозяйствами в течение данного года

весь доход, предназначенный для личных расходов, после уплаты налогов

ВВП минус амортизация

**Потенциальный ВВП измеряется:**

объемом производства, соответствующим уровню потенциальных потребностей населения и всех хозяйствующих субъектов страны

объемом продукции, который может быть произведен в стране в условиях полной занятости населения (при уровне естественной безработицы)

+ максимальным объемом продукции, который может быть произведен в данных экономических условиях и при данных факторах производства

Нет верного ответа

**Если объем реального ВВП снизился на 6%, а численность населения в том же году сократилась на 3%, то:**

+ реальный ВВП на душу населения снизился

реальный ВВП на душу населения увеличился, а номинальный снизился

номинальный ВВП не изменился

цены упали на 3%

**В ВВП, рассчитанный по сумме расходов, НЕ включается следующая величина:**

инвестиции

чистый экспорт

государственные закупки товаров и услуг

+ зарплата

**Если общий уровень цен в стране за год существенно вырастет, а производство товаров и**

**услуг не изменится, то при прочих равных условиях:**

реальный валовой внутренний продукт (ВВП) увеличится

номинальный ВВП уменьшится

+ номинальный ВВП увеличится

реальный уровень жизни в стране повысится

**Организация британской фирмой производства кроссовок в России:**

+ увеличит ВВП Великобритании

увеличит ВВП Великобритании

увеличит и то, и другое

не увеличит ни того, ни другого

**Доходы, полученные владельцами факторов производства, в сумме составляют:**

валовой национальный продукт

валовой внутренний продукт

располагаемый доход

+ национальный доход

**В ВВП входит:**

промежуточный продукт

добавленная стоимость

доходы теневого бизнеса

+ сальдо факторных доходов

**Что из перечисленного не включается в состав ВВП?**

покупка новых акций у брокера

+ покупка подержанного автомобиля

стоимость нового учебника в магазине

покупка нового автомобиля

**Если фирмы начнут все свои прибыли выплачивать акционерам в форме дивидендов, то в национальных счетах возрастет показатель:**

ВВП

чистых инвестиций

амортизации

+ личного дохода

**Компания по производству шин продает фирме, производящей автомобили, 4 шины стоимостью 400 долл. Другая компания продает автомобильной фирме плеер за 500 долл. Установив все это на новой машине, автомобильная фирма продает её за 20000 долл. Какая сумма будет включена при подсчете в состав ВВП?**

+ 20000

900

20900

20000 минус прибыль автомобильной фирмы

**Предметом исследования макроэкономики НЕ является:**

уровень безработицы в стране

+ установление относительных цен на рынке факторов производства

объем инвестиционного спроса в экономике

влияние фискальной политики на экономический рост

**Реальный ВВП – это стоимость товаров и услуг, измеренная в:**

ценах производителя

текущих ценах

+ ценах базового года

ценах предыдущего года

**Номинальный ВВП – это стоимость товаров и услуг, измеренная в:**

+ текущих ценах

фактических ценах

ценах базового года

ценах предыдущего года

**Наиболее подходящим показателем для измерения ежегодного изменения физического объема производства является:**

номинальный ВВП

дефлятор ВВП

индекс потребительских цен

+ реальный ВВП

**Если совокупный выпуск состоит из 4 яблок и 3 апельсинов, при этом каждое яблоко стоит 5 руб., а каждый апельсин – 10 руб., то стоимость ВВП равна:**

35 рублям

+ 50 рублям

70 рублям

7 фруктам

**Предположим, что гражданин Канады каждый день пересекает границу и работает в США.**

**Его доход включается в:**

ВНП США и ВВП Канады

ВВП США и ВВП Канады

+ ВВП США и ВНП Канады

ВНП США и ВНП Канады

**Какие из видов доходов не учитываются при подсчете ВВП?**

арендная плата за сдачу собственной квартиры

+ пенсии военнослужащих

зарплата государственных служащих

проценты по облигациям

**Если уровень цен текущего года ниже уровня цен базового года, то реальный ВВП:**

меньше номинального ВВП

определенно сказать нельзя

+ больше номинального ВВП

равен номинальному ВВП

**Покупка семьей нового дома за городом отразится на величине:**

чистого экспорта

государственных расходов

+ инвестиционных расходов

расходов на покупку потребительских товаров длительного пользования

## ***Тема 9 «Макроэкономическое равновесие. Потребление и сбережения»***

### ***Опрос по теме***

*Вопросы для опроса:*

1. Какие факторы определяют обратную зависимость совокупного спроса и цены.
2. Какие неценовые факторы оказывают влияние на совокупный спрос.
3. Какие неценовые факторы оказывают влияние на совокупное предложение.
4. Как изменятся условия макроэкономического равновесия (реальный объем общественного производства и уровень цен) при увеличении совокупного спроса в пределах горизонтального отрезка, на вертикальном отрезке и на промежуточном отрезке.
5. Что представляют собой потребление и сбережения. Взаимосвязь функций потребление и сбережений.
6. Сущность предельной склонности к потреблению и сбережениям.

### ***Компьютерное тестирование (ТСк):***

*Выберите один вариант ответа.*

**В классической модели равновесный уровень цен:**

определяется как пересечение кривых совокупного спроса и предложения  
создает равновесие рынка товаров  
создает равновесие денежного рынка  
создает равновесие рынка труда  
+ определяется и создает равновесие согласно всем предыдущим пунктам

**Кривая совокупного спроса характеризует :**

объем товаров и услуг, который потребители намерены купить по средним ценам  
+ количество товаров и услуг, которые потребители готовы приобрести при каждом возможном уровне цен  
количество товаров и услуг, которые потребители могут приобрести, а производители поставить на рынок при определенной цене  
объем товаров и услуг, который потребители намерены купить по минимальным ценам

**Совокупный спрос включает в себя следующие элементы :**

спрос на потребительские товары  
спрос на инвестиционные товары  
спрос на товары и услуги со стороны государства  
спрос со стороны внешнего рынка  
+ все вышеперечисленное верно  
все верно, кроме п. «г»

**Кривая совокупного спроса будет сдвигаться вверх и вправо по всем нижеперечисленным причинам, за исключением:**

увеличения объема реальных денежных остатков  
роста уровня потребления домашних хозяйств, при всех уровнях дохода  
проведения государством стимулирующей фискальной политики и увеличения им расходов при всех уровнях доходов  
+ роста цен, сокращения реальных остатков, повышения процентной ставки и снижения инвестиционных расходов

**Снижение кривой совокупного спроса – результат:**

эффекта реальных кассовых остатков  
эффекта процентной ставки  
эффекта импортных закупок  
+ все предыдущие ответы верны  
все предыдущие ответы неверны

**К неценовым факторам совокупного спроса НЕ относится:**

предложение денег и скорость их обращения  
рост доходов населения  
+ изменение общего уровня цен  
политика государственных расходов  
факторы, влияющие на инвестиционные расходы фирм

**Кейнсианский отрезок на кривой совокупного предложения:**

имеет положительный наклон  
имеет отрицательный наклон  
представлен вертикальной линией  
+ представлен горизонтальной линией  
все предыдущие ответы неверны

**Рост совокупного предложения вызовет:**

снижение уровня цен и реального объема ВВП  
+ замедление роста цен и увеличение реального объема ВВП  
повышение уровня цен и объема ВВП в реальном выражении  
замедление роста цен и снижение реального объема ВВП  
все предыдущие ответы верны

**При увеличении совокупного спроса на классическом отрезке AS при прочих равных условиях равновесный уровень цен:**

упадет, а равновесный объём производства вырастет

+ вырастет, а равновесный объём производства останется неизменным

и равновесный объём производства вырастут одновременно

останется неизменным, а равновесный объём производства сократится

**К снижению совокупного предложения при прочих равных условиях приведёт:**

+ введение жесткого экологического законодательства

укрепление курса национальной валюты

разработка новых месторождений нефти

снижение тарифов на электроэнергию

**Если состояние экономики характеризуется кейнсианским отрезком кривой совокупного предложения, то рост совокупного спроса приведёт:**

к повышению уровня цен и реального ВВП

к повышению уровня цен и к сокращению реального ВВП

+ к увеличению реального ВВП при неизменном уровне цен

к снижению уровня цен и росту реального ВВП

**Если положение экономики соответствует классическому отрезку кривой совокупного предложения, то во избежание в ближайшем будущем перегрева экономики целесообразно:**

не только сдерживать рост совокупного спроса, но и совокупного предложения;

+ сдерживать рост совокупного спроса;

не только сдерживать рост совокупного спроса, но и стимулировать совокупное предложение;

стимулировать совокупное предложение

**При достижении потенциального уровня валового продукта рост совокупного спроса приводит к:**

+ повышению уровня цен

перепроизводству товаров

увеличению предложения товаров

экономическому росту

**Равновесный объём производства в модели «AD–AS» при прочих равных условиях сократится в результате:**

+ сдвига кривой AD влево

сдвига кривой AS вправо-вниз

сдвига кривой AD вправо

одновременного сдвига кривой AD вправо и кривой AS вправо-вниз

**Если люди ожидают увеличения дохода в будущем, то они изменяют свое потребление, что приведёт к смещению:**

влево кривой совокупного спроса

вправо кривой совокупного предложения

влево кривой совокупного предложения

+ вправо кривой совокупного спроса

**Снижение уровня реального располагаемого дохода приводит к сдвигу кривой совокупного:**

предложения вправо

предложения влево

+ спроса влево

спроса вправо

**Совокупный спрос – это:**

+ общее количество товаров и услуг, на который предъявляется спрос при различных уровнях цен

агрегированный спрос на продукцию определенной отрасли

равновесный доход, получаемый в данном году



общий объем произведенных конечных товаров и услуг  
спрос на данный товар на местном рынке

**Если кривая совокупного спроса сдвинется вправо, то это не может отражать:**

+ повышение уровня цен и падение реального ВВП

повышение цен при отсутствии роста реального объема ВВП

повышение уровня цен и реального объема ВВП одновременно

нет правильного ответа

**Уровень цен не повышается, если кривая совокупного спроса сдвигается:**

+ вправо на горизонтальном отрезке кривой совокупного предложения

на вертикальном отрезке кривой AS

на промежуточном отрезке кривой AS

нет правильного ответа

**Падение производства при повышении уровня цен отражается:**

сдвигом кривой AS вправо

сдвигом кривой AD вправо

+ сдвигом кривой AS влево

сдвигом кривой AD влево

**Кривая совокупного спроса выражает отношение между:**

объемами производственного и потребительского ВВП в реальном выражении

+ уровнем цен и совокупными расходами на покупку товаров и услуг

уровнем цен и потребленным ВВП в реальном выражении

уровнем цен и личным располагаемым доходом

нет правильного ответа

**Классический отрезок кривой совокупного предложения:**

имеет отрицательный наклон

имеет положительный наклон

+ представляет собой вертикальную линию

не существует вообще

представляет собой горизонтальную линию

**Увеличение совокупного предложения под действием неценовых факторов вызовет:**

повышение уровня цен и объема ВВП в реальном выражении

снижение уровня цен и реального объема ВВП

+ замедление роста цен и увеличение реального объема ВВП

увеличение объема ВВП

**Предельная склонность к потреблению – это:**

отношение совокупного потребления к совокупному доходу

изменение в потребительских расходах, вызванное изменением дохода

кривая, которая характеризует величину потребительских расходов при данном уровне дохода

+ дополнительное потребление, связанное с увеличением располагаемого дохода на одну единицу

**Потребление - это:**

+ часть дохода населения, которая тратится на приобретение материальных благ и услуг

часть дохода после уплаты налогов

стоимость товаров, равная располагаемому доходу

стоимость товаров, соответствующая пороговому уровню дохода

**Если объем располагаемого дохода уменьшается, то, при прочих равных условиях:**

растут и потребительские расходы, и сбережения

потребительские расходы растут, а сбережения сокращаются

потребительские расходы сокращаются, а сбережения растут

+ сокращаются и потребительские расходы, и сбережения

**Если объем располагаемого дохода в данной стране увеличится, то:**

+ растут и потребительские расходы, и сбережения;

потребительские расходы растут, а сбережения сокращаются  
потребительские расходы сокращаются, а сбережения растут  
сокращаются и потребительские расходы, и сбережения

**На объем инвестиций не оказывает влияние:**

уровень процентной ставки  
оптимистические или пессимистические ожидания предпринимателей  
уровень технологических изменений  
+ рост свободного времени населения

**Сбережения - это:**

доход +(плюс) потребление  
+ доход – (минус) потребление  
потребление – (минус) доход  
потребление /(дробь) доход

**Если реальная процентная ставка увеличится, то:**

кривая спроса на инвестиции сдвинется вправо  
кривая спроса на инвестиции сдвинется влево  
спрос на инвестиции возрастет  
+ инвестиционные расходы сократятся

**К собственным источникам инвестиций нельзя отнести:**

средства амортизационного фонда  
нераспределенная прибыль  
депозиты в банке  
+ ассигнования из бюджета

**Кривая спроса на инвестиции показывает связь между:**

инвестициями и ценой на ресурсы  
+ инвестициями и реальной процентной ставкой  
инвестициями и политикой государства  
инвестициями и прибылью

**Средняя склонность к потреблению рассчитывается как:**

сумма дохода и потребления  
разность между доходом и потреблением  
отношение дохода к потреблению  
+ отношение потребления к доходу

**Средняя склонность к потреблению и средняя склонность к сбережению в сумме равны:**

0  
+ 1  
-1  
100

**Средняя склонность к сбережению рассчитывается как:**

сумма дохода и сбережения  
разность между доходом и сбережением  
отношение дохода к сбережению  
+ отношение сбережения к доходу

## ***Тема 10 «Экономический рост и цикличность экономического развития»***

### ***Опрос по теме***

*Вопросы для опроса:*

1. Сущность экономического роста и его количественные показатели?
2. Как графически можно представить экономический рост?
3. Факторы экономического роста?
4. Сущность научно – технического прогресса и его вклад в экономический рост?

5. Понятие экономического цикла?
6. Основные фазы классического цикла. Особенности экономических циклов на современном этапе?
7. Специфика экономических циклов?
8. Взаимосвязь экономических циклов с научно – техническим прогрессом.

**Компьютерное тестирование (ТСк):**

*Выберите один вариант ответа.*

**Экономический рост является интенсивным, если:**

в результате большего привлечения трудовых ресурсов повышается объем ВВП  
увеличивается заработная плата наемных работников  
+ рост производительности труда опережает рост численности занятых  
увеличиваются размеры капиталовооруженности

**Экономический рост – это:**

увеличение номинального объёма ВВП  
+ увеличение реального объёма ВВП  
увеличение реального объёма ВВП на душу населения  
нет верного ответа

**Каким показателем не измеряется качество экономического роста:**

улучшением материального благосостояния общества  
ростом свободного времени  
усилением социальной защиты населения  
+ освоением новых технологий

**К косвенным факторам экономического роста нельзя отнести:**

+ рост и изменение структуры основного капитала  
улучшение условий в получении кредита  
снижение налогов  
наличие конкурентной среды

**К годовым темпам экономического роста не относится:**

+ положительный  
высокий  
отрицательный  
нулевой

**Каким показателем измеряется эффективность экономического роста:**

улучшением материального благосостояния общества  
ростом свободного времени  
усилением социальной защиты населения  
+ освоением новых технологий

**Факторы, которые непосредственно определяют физическую способность экономики к экономическому росту это:**

косвенные  
+ прямые  
внешние  
внутренние

**К факторам экономического роста относятся группы факторов:**

положительные и прямые  
отрицательные и косвенные  
+ прямые и косвенные  
положительные и нулевые

**Идеальной формой в условиях совершенной рыночной экономики считается:**

+ равновесный экономический рост  
эффективный экономический рост

равновесие между спросом и предложением  
сбалансированный экономический рост

**Экономический рост может быть отражен:**

сдвигом влево кривой производственных возможностей

+ сдвигом вправо кривой производственных возможностей

движением точки по кривой производственных возможностей

движением между точками за пределами кривой производственных возможностей

**При прочих равных условиях, если в экономике, характеризующейся полной занятостью, происходит значительное перемещение ресурсов в производство средств производства, то следует ожидать:**

увеличения объема текущего потребления

снижения темпов роста ВВП

+ снижения объема потребления в будущем

увеличения производительности труда

**В экономике, характеризующейся полной занятостью, высокие темпы экономического роста требуют:**

низкой нормы сбережений и низкой нормы инвестиций

высокой нормы сбережений и низкой нормы инвестиций

+ высокой нормы сбережений и высокой нормы инвестиций

низкой нормы сбережений и высокой нормы инвестиций

**Экономический рост является интенсивным, если:**

в результате большего привлечения трудовых ресурсов повышается объем ВВП

увеличивается заработная плата наемных работников

+ рост производительности труда опережает рост численности занятых

увеличиваются размеры вкладов населения в банки

**Экстенсивным фактором экономического роста является**

рост уровня образования трудовых ресурсов

повышение квалификации работников

совершенствование организации производства

+ увеличение вовлекаемого в производство капитала

**В условиях экономического роста**

темпы роста населения превышают темпы увеличения реального национального дохода

темпы роста населения соответствуют темпам увеличения реального национального дохода

+ темпы увеличения реального национального дохода превышают темпы роста населения

темпы увеличения реального национального дохода отстают от темпов роста населения

**Показатель экономического роста не может**

+ стремиться к бесконечности

быть отрицательной величиной

быть положительной величиной

быть равен нулю

**Если экономика характеризуется кризисным состоянием, то показатель экономического роста:**

стремится к бесконечности

+ представлен отрицательной величиной

равен нулю

представлен положительной величиной

**К недостаткам экстенсивного экономического роста относится**

простота обеспечения

+ быстрое освоение природных ресурсов

усиление затратного характера производства

создание условий для относительно высокой занятости

**Если темп роста инфляции равен темпу роста валового внутреннего продукта, то в стране**

произошел экономический спад  
наблюдается рост цен  
не произошло ни экономического роста, ни экономического спада  
произошел экономический рост  
+ нет однозначного ответа

**Экономический рост, обусловленный улучшением качества используемых ресурсов, является**

количественным  
интенсивным  
+ экстенсивным  
качественным

**К антикризисной политике в период депрессии не относится:**

покупка государственных ценных бумаг на открытом рынке  
понижение налоговых ставок  
+ понижение заработной платы  
повышение заработной платы

**При движении национальной экономики от нижней точки спада к верхней точке бума чистые инвестиции могут быть:**

+ отрицательными, нулевыми и положительными  
нулевыми и положительными  
отрицательными и нулевыми  
отрицательными и положительными

**В период оживления экономики:**

объем производства превышает докризисный уровень  
+ объем производства достигает докризисного уровня  
объем производства падает ниже докризисного уровня  
объем производства не достигает докризисного уровня

**Для характеристики экономического цикла не могут быть использованы:**

объем потребительского спроса и объем инвестиций  
объем производства и объем товарных запасов  
уровни занятости и безработицы  
+ дефицит бюджета и величина государственного долга

**В период спада наблюдается рост:**

сбережений  
+ государственных расходов  
налоговых поступлений  
инвестиций

**Экзогенными причинами циклического развития являются:**

изменения производительности труда  
рост инвестиций  
изменением отраслевой структуры народного хозяйства  
+ неурожаи, вызванные неблагоприятными природными условиями

**Экономический цикл представляет собой:**

периодически изменяющийся уровень безработицы  
изменение экономической активности государства  
+ следующие один за другим подъемы и спады уровней экономической активности в течение нескольких лет  
непрерывно повторяющийся процесс в неразрывной взаимосвязи с распределением, обменом и потреблением

**Правильное расположение экономических циклов в порядке убывания их длительности следующее:**

Жугляра, Тоффлера, Кузнеца, Кондратьева

+ Тоффлера, Форрестера, Кондратьева, Китчина  
Китчина, Жугляра, Кузнецца, Кондратьева  
Кондратьева, Форрестера, Жугляра, Китчина

**Какое из перечисленных ниже понятий не относится к циклическим колебаниям деловой активности:**

депрессия  
+ дефляция  
подъем  
бум

**К характеристике экономического спада не относится:**

падение спроса на труд  
+ ускорение роста цен  
уменьшение прибылей  
снижение роста цен

**Циклический характер развития экономики проявляется:**

+ в колебаниях экономической конъюнктуры, имеющих периодический характер  
в периодических спадах деловой активности  
в периодических подъемах деловой активности  
не связан с деловой активностью

**Фазами промышленного цикла принято считать:**

бум, подъем, оживление и рост экономики  
депрессию, спад, падение деловой активности  
+ кризис, депрессию, оживление, подъем  
бум, спад, депрессию, дефляцию

**В период кризисного падения производства наблюдается:**

+ рост безработицы  
падение безработицы  
занятость остается неизменной  
рост занятости

**В период оживления экономики:**

+ реальный объем производства увеличивается  
номинальный объем производства увеличивается;  
номинальный объем производства остается без изменений  
уменьшается реальный объем производства, а номинальный растет

**Продолжительность экономического цикла составляет:**

один год;  
пять лет  
десять лет  
+ нельзя дать однозначного ответа

**В теории экономического цикла изучается:**

механизм согласования планов фирм, потребителей, государства  
+ причины колебаний реального объема национального производства, факторы и условия устойчивого равновесного роста экономики  
структура ВВП страны  
основные макроэкономические пропорции

**К среднесрочным экономическим циклам относятся колебания экономической конъюнктуры с периодом:**

50 и более лет  
30 лет  
+ 10 лет  
1 год

**Причиной, вызывающей экономические циклы, считал воздействие на людей пятен на Солнце:**

+ У. Джевонс

С. де. Сисмонди

И. Фишер

М.И. Туган-Барановский

**Причиной, вызывающей экономические циклы, считал превышение производства средства производства над производством потребительских товаров:**

У. Джевонс

И. Фишер

М. Фридмен

+ М.И. Туган-Барановский

**Долгосрочные циклы экономической конъюнктуры названы по имени их первооткрывателя циклами:**

Китчина

Жугляра

+ Кондратьева

Кузнеца

**Экономический цикл связан с:**

действием только внешних факторов

+ действием внешних и внутренних факторов

факторами, преимущественно влияющими на динамику совокупного спроса

факторами, преимущественно влияющими на динамику предложения

**Из перечисленных явлений не соответствует периоду экономического спада:**

снижение инвестиций в оборудование с длительным сроком службы

падение курса акций, более низкий спрос на труд

сокращение налоговых поступлений

+ уменьшение объема пособий по безработице

**К экзогенным, внешним причинам циклического развития относятся:**

+ природно-климатические явления

спрос и предложение

политические явления и процессы

ничего из перечисленного

**Антициклическое регулирование экономики направлено:**

на сокращение кризисного падения производства

на ускорение экономического роста

+ на стабилизацию экономического развития

на изменение макроэкономических пропорций

**Циклический характер экономического развития характерен для:**

+ для рыночной экономики

для традиционной экономики

для командно-административной экономики

для всех экономических систем

## **Тема 11 «Макроэкономические проблемы (инфляция, безработица)»**

### **Опрос по теме**

Вопросы для опроса:

1. Сущность и виды инфляции.
2. Причины возникновения инфляции и антиинфляционная политика.
3. Показатели измерения инфляции.
4. Причины, основные черты, виды безработицы.

5. Основные направления антиинфляционной политики государства.
6. Экономическое содержание рынка труда и занятости. Что входит в понятие полной занятости?
7. Особенности действия закона спроса и предложения на рынке труда в современных условиях?
8. Безработица, ее основные виды. Как определяется уровень безработицы?
9. Закон А. Оукена.
10. Какая взаимосвязь между уровнем безработицы и инфляцией? Кривая Филлипса.

**Компьютерное тестирование (ТСк):**

*Выберите один вариант ответа.*

**Если дефлятор ВВП возрос за год со 144 до 182, то темп инфляции в этом году составит:**

- 40%
- + 26,4%
- 80%
- 100%

**Повышение цен на энергоресурсы в наибольшей степени обуславливает:**

- инфляцию спроса
- + инфляцию издержек (предложения)
- подавленную инфляцию
- галопирующую инфляцию

**В период ускоряющейся инфляции процентная ставка:**

- падает, потому что падает цена денег
- падает, потому что уровень занятости
- + растет, так как цена денег падает
- не меняется

**Избыточная эмиссия денег приводит к инфляции:**

- + спроса
- предложения (издержек)
- подавленной
- гиперинфляции

**Инфляция - это:**

- увеличение роста совокупного спроса
- уменьшение денежной массы в стране
- + снижение покупательной способности денег (обесценивание денежной единицы)
- уменьшение товарного дефицита

**Дефляция - это:**

- рост уровня цен
- рост товарного дефицита
- краткосрочное снижение уровня цен
- + долговременное снижение уровня цен

**Если в первом году номинальная процентная ставка была 8%, а во втором году – 9%, то при уровне инфляции соответственно 4% и 6% реальная ставка во втором году по сравнению с первым:**

- увеличилась на 3%
- + уменьшилась на 1%;
- увеличилась на 1%
- уменьшилась на 2%

**Если уровень инфляции падает с 6% до 4% и больше никаких изменений не происходит, то:**

- номинальная ставка падает на 2%, а реальная ставка процента не изменяется
- + номинальная ставка процента не меняется, а реальная увеличивается на 2%;
- и номинальная, и реальная ставка процента не изменяются;



и номинальная, и реальная ставка процента падают на 2%

**Инфляцию в России на уровне 14% в год можно считать:**

галопирующей  
гиперинфляцией  
подавленной  
+ умеренной

**Кто из нижеперечисленных выиграет в условиях инфляции:**

+ получивший беспроцентную ссуду в 100 ден. единиц  
получающий пенсию в 100 ден. единиц  
имеющий 100 ден. единиц на сберегательном счёте  
выдавший долгосрочный кредит в 100 ден. единиц

**Для борьбы с инфляцией Центральному банку следует:**

выпускать государственные ценные бумаги  
уменьшить норму банковских резервов  
приобретать акции крупнейших компаний  
+ уменьшить учетную ставку, которая приведет к уменьшению процентов по вкладам в коммерческих банках

**В длительной перспективе государственная антиинфляционная политика опирается на:**

увеличение финансирования отдельных видов деятельности  
рост дотаций и субсидий  
рост бюджетного дефицита  
+ лимитирование денежной массы

**От внезапного роста инфляции выгадают, скорее всего:**

люди, живущие на фиксированную пенсию  
владельцы страховых полисов, застраховавшие свою жизнь  
вкладчики сбербанков  
+ люди, получившие беспроцентный кредит

**Инфляционный налог повышается, если:**

увеличивается выпуск государственных облигаций  
повышается ожидаемый темп инфляции  
+ повышается фактический темп инфляции  
уменьшается спрос населения на реальные кассовые остатки

**Какой из перечисленных факторов может вызвать инфляцию спроса:**

+ рост расходов на милитаризацию экономики  
повышение цен на нефть  
снижение предельной склонности к потреблению  
повышение ставок подоходного налога с населения.

**Инфляция предложения может возникнуть в результате:**

роста дефицита государственного бюджета  
увеличения дефицита платежного бюджета страны  
+ повышения ставок заработной платы  
увеличения чистого экспорта

**Если повышаются цены на сырье, растет заработная плата, а объем производства и занятость снижаются, то это:**

инфляция спроса  
стагфляция  
дефляция  
+ инфляция издержек производства

**Что из перечисленного ниже, скорее всего, станет причиной роста инфляции:**

+ рост цен на энергоносители  
начало разработки обширного угольного бассейна  
повышение Центральным банком учетной ставки (ставки рефинансирования)

отмена льгот по подоходному налогу с физических лиц

**При росте темпа инфляции рыночная цена облигаций с фиксированным процентом:**

будет иметь тенденцию к росту

+ будет иметь тенденцию к снижению

будет стабильна и равна номиналу

упадет до нуля

**При снижении темпа инфляции выиграют:**

+ кредиторы и работники с фиксированной заработной платой

должники и работники с фиксированной заработной платой

кредиторы и работодатели, выплачивающие своим работникам фиксированную заработную плату

должники и работодатели, выплачивающие своим работникам фиксированную заработную плату

**Что из перечисленного ниже не имеет отношения к инфляции издержек:**

+ рост занятости и выпуска

рост заработной платы

шоки предложения

рост издержек на единицу продукции

**Допустим, что ссуда в размере 100 предоставлена банком на один год при условии, что уровень инфляции составляет 12 % в год, а сумма долга, подлежащая возврату в реальном выражении, равна 105. Какова в данном случае номинальная ставка процента по кредиту:**

5%

18%

+ 17,6%

13,3%

**Если номинальный ВВП возрос за год с 400 до 600, а реальный сократился с 400 до 200, то темп инфляции составил:**

20%

100%

+ 200%

300%

**Если дефлятор ВВП возрос за год со 136 до 162, то темп инфляции в этом году составит:**

+ 19,1

28,6%

79,1%

недостаточно данных для расчёта

**В период ускоряющейся инфляции реальная процентная ставка:**

всегда больше 0

всегда меньше 0

всегда равна 0

+ может принимать любое из указанных значений

**Возникновение научного обоснования инфляционных процессов непосредственно связано с:**

результатами первой мировой войны

+ экономическим кризисом 1857 г.

«великой депрессией» 1829-33гг.

экономическим кризисом 1825 г. в Англии

**В связи с переездом в другой город инженер не работал полтора месяца. Это непосредственно увеличило безработицу:**

структурную

циклическую

добровольную

+ фрикционную

**Для макроэкономического развития наименее благоприятной является безработица:**

структурная  
+ циклическая  
добровольная  
естественная

**Человек трудоспособного возраста, имеющий основную работу и ведущий поиски дополнительной работы, относится к категории:**

не входящих в рабочую силу  
фрикционных безработных  
структурных безработных  
+ занятых

**Что из перечисленного ниже может сократить размеры структурной безработицы?**

увеличение пособий по безработице  
увеличение налогов на корпорации  
+ государственные программы по профессиональной переподготовке  
увеличение размеров минимальной заработной платы

**Если правительство преследует цель снизить естественный уровень безработицы в экономике, то все нижеперечисленные меры макроэкономической политики будут одобрены в парламенте, за исключением:**

+ повышения уровня пособий по безработице  
функционирования государственных служб занятости  
введения государственных программ профессиональной переподготовки  
ведения бонусных программ страхования по безработице для лиц, которые быстро находят новые рабочие места

**Уровень безработицы рассчитывается как отношение:**

количества безработных к общей численности занятых  
+ количества безработных к численности гражданской рабочей силы  
количества безработных к количеству потенциальной рабочей силы  
общего числа занятых к количеству безработных

**В условиях полной занятости уровень циклической безработицы:**

+ должен равняться 0  
будет меньше уровня фрикционной безработицы  
соответствует уровню добровольной безработицы  
все ответы неверны

**Уровень заработной платы на рынке труда определяется под непосредственным воздействием:**

+ спроса и предложения на труд  
уровня прожиточного минимума  
изменение числа специалистов высокой квалификации  
экономической политики правительства

**Повторяющиеся спады производства порождают безработицу:**

сезонную  
структурную  
+ циклическую  
фрикционную

**К неэкономическим отрицательным последствиям безработицы относится:**

+ рост числа правонарушений  
повышение конкуренции на рынке труда  
недополученный выпуск продукции  
уменьшение шансов найти высокооплачиваемую работу в будущем

**Какое из указанных явлений относится к скрытой безработице:**

+ отказ работодателя от социальных гарантий работникам

предоставление внеочередного неоплачиваемого отпуска  
сокращение штата сотрудников  
досрочное оформление пенсии

**Недостаточный совокупный спрос приводит к:**

росту фрикционной безработицы  
росту структурной безработицы  
снижению добровольной безработицы  
+ нет верного ответа

**Инженер Н., находящийся в вынужденном отпуске и подрабатывающий мелкой торговлей, относится к категории безработных:**

+ скрытых  
фрикционных  
добровольных  
структурных

**Естественный уровень безработицы представляет собой:**

долю фрикционной и структурной безработицы в рабочей силе  
долю циклической и структурной безработицы в рабочей силе  
долю добровольной безработицы в рабочей силе  
+ уровень безработицы при полной занятости

**Графическое отображение связи между темпом инфляции и нормой безработицы в краткосрочном периоде называется:**

кривой Лоренца  
кривой Оукена  
+ кривой Филлипса  
кривой Парето

**Для макроэкономического развития наиболее благоприятной является безработица:**

структурная  
циклическая  
+ естественная  
добровольная

**Работник, высвободившийся в связи с реорганизацией производства, попадает в категорию безработных:**

скрытых  
фрикционных  
добровольных  
+ структурных  
циклических

**Согласно закону Оукена, двухпроцентное превышение фактического уровня безработицы над естественным уровнем снижает уровень инфляции на:**

+ 1%  
2%  
4%  
5%

## **Тема 12 «Денежно – кредитная система и денежно – кредитная политика государства»**

### **Опрос по теме**

*Вопросы для опроса:*

1. Что такое денежная масса и из каких агрегатов она состоит?
2. Сущность закона денежного обращения.
3. Равновесие на денежном рынке, его изменение под воздействием изменения предложения

денег и их спроса?

4. Сущность денежной системы и типы денежных систем.
5. Кредитная система и ее структура.
6. Сущность кредита. Его принципы и виды.
7. Основные функции Банка России и коммерческих банков.
8. Сущность денежно – кредитной политики. Ее объект, субъекты и основные цели.
9. Денежный мультипликатор и механизм его действия.
10. Основные направления денежно – кредитной политики

### **Компьютерное тестирование (ТСк):**

*Выберите один вариант ответа.*

**Денежный агрегат М3 отличается от денежного агрегата М2 на величину:**

срочных вкладов

+ сберегательных вкладов

срочных и сберегательных вкладов

вкладов до востребования

**Если спрос на деньги и предложение денег будут расти, то:**

равновесное количество денег и равновесная процентная ставка вырастут

равновесное количество денег и равновесная процентная ставка сократятся

+ равновесное количество денег вырастет, а изменение равновесной процентной ставки предсказать невозможно

невозможно предсказать изменение количества денег и равновесной процентной ставки

**Денежная масса это:**

совокупность наличных денег

+ совокупность всех денежных средств, находящихся в обращении

совокупность всех денежных средств, имеющихся у ЦБ

совокупность всех денежных средств и ценных бумаг

**Если номинальный объем ВВП составляет 40000 млрд. руб., а объем спроса на деньги для сделок составляет 8000 млрд. руб., то:**

спрос на деньги со стороны активов составит 32000

общий спрос на деньги составит 48000

+ в среднем, каждый рубль обращается 5 раз в год

необходимо увеличить объем предложения денег

**Величина денежного агрегата М2 отличается от М1 на сумму:**

сберегательных вкладов,

+ срочных вкладов

чековых вкладов

сберегательных и срочных вкладов

**Если деньги для сделок совершают в среднем 5 оборотов в год, то количество денег, необходимых для обслуживания обмена, на которое предъявляется спрос:**

в 5 раз больше номинального объема ВВП

+ составляет 20% номинального ВВП

равно отношению:  $5 / \text{номинальный объем ВВП}$

равно отношению :  $20\% / \text{номинальный объем ВВП}$

**К важнейшим элементам денежной системы не относится:**

форма денег

национальная денежная единица

валютный паритет

+ нет верного ответа

**Спрос на деньги для сделок изменяется следующим образом:**

возрастает при увеличении процентной ставки

возрастает при снижении процентной ставки  
снижается по мере роста номинального объема ВВП  
+ снижается при уменьшении номинального объема ВВП

**Деньги служат:**

средством обращения  
средством сохранения ценности  
счетной единицей  
+ все ответы верны

**Государственный долг – это:**

это сумма накопленных за определённый период времени бюджетных дефицитов  
сумма задолженности государства другим странам  
превышение расходов над доходами  
+ ни один из ответов не является верным

**Уровень процентной ставки на денежном рынке зависит от:**

денежного агрегата М3  
денежного агрегата М2  
+ количества денег, предлагаемых Центральным банком  
изменения валютного курса национальной единицы

**Основным источником погашения Государственных займов выступают:**

средства внебюджетных фондов  
налоги  
другие займы  
+ средства граждан

**Денежная система – это:**

национальная система денег  
+ государственная система организации выпуска и функционирования денежных средств  
законодательный порядок обращения национальной валюты  
совокупность атрибутов денежных знаков

**Исторически сложившаяся и законодательно установленная государством форма организации денежного обращения в стране – это:**

мировые деньги  
+ денежная система  
валютный приоритет  
денежный рынок

**К наличным деньгам в современной системе денежного обращения не относятся:**

чеки  
векселя  
+ платёжная кредитная карта  
разменная монета

**Тема 13 «Финансовая система и финансовая политика государства»**

**Опрос по теме**

Вопросы для опроса:

1. Финансы как экономическая категория. Какие денежные отношения не относятся к финансовым?
2. Какие две сферы охватывают финансовые отношения? Субъекты финансовых отношений.
3. Функции финансов и их содержание.
4. Финансовая система, из каких звеньев она состоит?
5. Что представляет собой государственный бюджет? Функции государственного бюджета?
6. Финансовая политика, ее направления.
7. Концепции бюджетной политики государства.

8. Сущность налогов и способы их взимания.
9. Основные функции налогов, принципы налогообложения.
10. Основные инструменты и рычаги фискальной политики.
11. Мультипликатор государственных расходов и налогов. Особенность налогового мультипликатора.
12. Разновидности дискреционной фискальной политики.

**Компьютерное тестирование (ТСк):**

*Выберите один вариант ответа.*

**Разграничение финансовой системы на отдельные звенья не учитывает:**

различия в задачах каждого звена

различия в методах формирования централизованных и децентрализованных фондов денежных средств

различия в методах использования централизованных и децентрализованных фондов денежных средств

+ различия в объёмах используемых денежных средств

**Финансовая политика охватывает сферы деятельности общества:**

экономическую и социальную

экономическую и политическую

социальную и политическую

+ все сферы деятельности

**Регулирующая функция финансов состоит в:**

распределении государственных доходов

формировании и использовании денежных средств

создании материальной базы существования государства

+ стимулировании деятельности хозяйствующих субъектов

**Государственный долг – это:**

сумма задолженности государства другим странам

сумма задолженности государства банкам и другим финансовым институтам

превышение расходов над доходами

+ ни один из ответов не является верным.

национальной единицы.

**Бюджетная система Российской Федерации включает в себя:**

бюджеты внебюджетных фондов

государственный кредит

+ местные бюджеты

бюджеты государственных предприятий

**Основным источником погашения Государственных займов выступают:**

средства внебюджетных фондов

налоги

другие займы

+ средства граждан

**К уровням бюджетной системы Российской Федерации не относится:**

+ областной уровень

федеральный уровень

уровень субъектов РФ

муниципальный уровень

**Какие из следующих функций не относятся к функциям финансов:**

аккумулирующая

регулирующая

распределительная

+ информационная

**Какие отношения из перечисленных не относятся к группам финансовых отношений, возникающих между субъектами:**

между государством и фирмами

между фирмами и банками

между государством и населением

+ между структурными подразделениями фирм

**Внутрифирменные финансовые отношения – это отношения:**

+ между фирмой в целом и его структурными подразделениями

между структурными подразделениями фирмы

между фирмой и государством

между работниками фирмы по поводу распределения фонда заработной платы

**Составные части финансов – это:**

+ общие государственные финансы и финансы населения

международные финансы

финансы населения фирм

все ответы верны.

**Если балансируется не Государственный бюджет, а состояние экономики, то:**

бюджет может быть проциклическим;

+ основная цель – макроэкономическое равновесие

бюджет будет сбалансирован не за год, а за циклический период

все ответы верны

**Система финансовых отношений включает в себя:**

инвестиции в частное предпринимательство

инвестиции в социальные программы

рынок ценных бумаг

+бюджеты различных уровней

**Долгосрочный кредит предоставляется на срок:**

+ от шести до десяти лет

от двух до пяти лет

от двадцати до сорока лет

от пятидесяти до ста лет

**К видам налоговой политики относятся:**

дискреционная и организационная

+ дискреционная и недискреционная

фискальная и недискреционная

дискреционная и фискальная;

**Пропорциональная налоговая ставка означает, что:**

средняя ставка налога снижается по мере роста дохода

средняя ставка налога повышается по мере возрастания налога

+ существует одинаковое % отношение к объекту налога без учёта его величины

абсолютная величина выплат на единицу налогообложения не зависит от размера дохода

**Лицо, фактически уплачивающее налог, это:**

субъект налога

объект налога

+ носитель налога

источник налога

**Деление на натуральный и денежный кредит относится к классификации кредитов:**

+ по способу кредитования

по сроку кредитования

по характеру кредитного пространства

по видам валюты

**В функции первого уровня кредитной системы не входит:**



хранение государственных золота – валютных резервов  
кредитование коммерческих банков  
+ кредитование предприятий и организаций  
контроль над деятельностью кредитных учреждений

**Основные принципы налогообложения были сформулированы:**

+ Адамом Смитом  
Карлом Марксом  
Робертом Солоу  
Джоном Кейнсом

**С дохода в 8000 ден. ед. выплачивается налог в 1200 ден. ед., с дохода в 20000 ден. ед. налог составляет 2000 ден. ед., налоговая система по характеру начисления налога является**

прогрессивной  
прямой  
пропорциональной

+ регрессивной

**Общая сумма собираемых в государстве налогов составляет 720 млрд.д.ед., ВВП – 1840 млрд.д.ед., уровень налогообложения в стране равен**

3,9%

+ 39%

61%

23%

**К методам сдерживающей фискальной политики относятся**

+ снижение налога на добавленную стоимость  
повышение нормы обязательных резервов  
увеличение налога на прибыль  
уменьшение субсидий и дотаций

**К функциям центрального банка не относится:**

установление ставки рефинансирования  
+ расчетно-кассовое обслуживание предприятий  
обеспечение необходимой степени ликвидности банковской системы  
установление минимальных норм обязательных резервов

**Коммерческие банки находятся на \_\_\_\_\_ уровне кредитной системы**

третьем

+ втором

четвертом

первом

**Депозитно-чековую эмиссию осуществляют**

инвестиционные банки

страховые фонды

+ коммерческие банки

центральные банки

**Если известно, что размер внешнего государственного долга за год составил 20, размер внутреннего государственного долга равен 100, расходы государственного бюджета за тот же год составили 500, то размер полученных государственным бюджетом доходов равен:**

120

+ 380

600

620

**Тема 14 «Социально – экономическая роль государства и его функции в рыночной экономике»**

### **Опрос по теме**

*Вопросы для опроса:*

1. Что такое доход и каковы его виды и источники?
2. Что показывает функциональное и персональное распределение доходов?
3. Основные причины, порождающие неравенство в распределении доходов?
4. С помощью какой графической модели можно наглядно проиллюстрировать степень неравенства в распределении доходов?
5. На основе каких коэффициентов рассчитывается неравномерность распределения доходов в обществе?
6. Основные точки зрения на явление бедности. В чем заключается закон Энгеля?
7. Что такое потребительская корзина?
8. Разграничьте понятия «уровень жизни» и «качество жизни».
9. Сущность социальной политики государства и его основные направления?
10. Как подсчитывается индекс цен и какое значение имеет его подсчет для создания государственных социальных программ.

### **Компьютерное тестирование (ТСк):**

*Выберите один вариант ответа.*

**Начиная с XIX века распределение дохода в развитых странах**

стало более неравномерным

осталось, в основном, на том же уровне

+ стало более равномерным

легко измеряется по ВВП

**Проблема фрирайдера связана с**

избытком ресурсов

недостатком ресурсов

избытком потребительских благ

+ все ответы неверны

**Для национальной экономики перелив ресурсов:**

имеет положительный эффект

имеет отрицательный эффект

безразличен

+ может иметь как положительный, так и отрицательный эффект

**Если коэффициент Джини возрос, то это, вероятнее всего, результат:**

роста реального ВВП

роста минимального размера пенсий

+ роста объёма платных образовательных услуг

развития системы прогрессивного налогообложения

**Кривая Лоренца описывает неравенство в распределении доходов:**

функциональном

+ количественном

функциональном и количественном

ни функциональном, ни количественном

**Функциональное распределение доходов представляет собой распределение НД по:**

его использованию в домохозяйствах

+ степени участия факторов производства

отдельным домашним хозяйствам

отдельным фирмам

**Показателем дифференциации доходов, равным отношению доходов самой обеспеченной 20% - ной группы населения к массе доходов наименее обеспеченной 20 % - ной группы, является:**

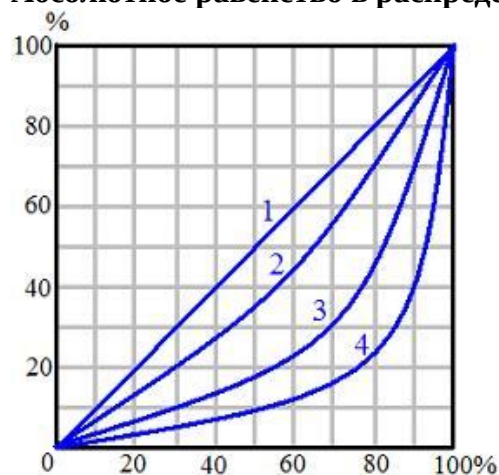
децильный коэффициент

+ квинтильный коэффициент  
квартильный коэффициент  
коэффициент Джини

**Показателем дифференциации доходов, равным отношению доходов самой обеспеченной 10% - ной группы населения к массе доходов наименее обеспеченной 10 % - ной группы, является:**

+ децильный коэффициент  
квинтильный коэффициент  
квартильный коэффициент  
коэффициент Лоренца

**Абсолютное равенство в распределении доходов в обществе отражает линия**



+ 1  
2  
3  
4

**Общественными товарами называются**

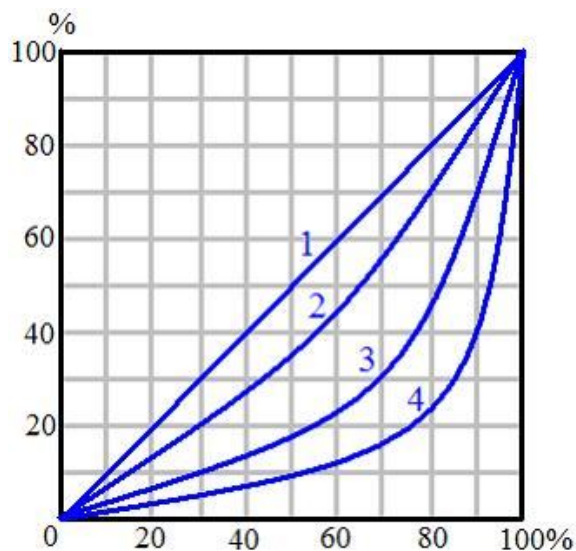
товары первой необходимости  
основные продукты питания  
неэкономические блага

+ блага, которые удовлетворяют коллективные потребности и не могут быть измерены в денежной форме

**К причинам «фиаско» рынка не относится:**

несовершенство конкуренции  
+ уравнительная система распределения доходов  
внешние эффекты  
производство общественных благ

**Распределение доходов в обществе иллюстрирует линия 3. Замена прогрессивного налогообложения на регрессивное приведет к сдвигу кривой Лоренца в положение:**



1

2

+ 4

сдвига кривой Лоренца не произойдет

**К наибольшему усилению степени неравенства населения по доходам по сравнению с пропорциональной системой налогообложения:**

приводит фиксированная система

+ приводит регрессивная система

приводит прогрессивная система

не приводит никакая система

**Показателем неравномерности распределения доходов в обществе из перечисленных ниже является:**

индекс потребительских цен

коэффициент Тобина

коэффициент Фридмана

+ децильный коэффициент

**Кривая Лоренца за три года сдвинулась дальше от биссектрисы. Это означает:**

повышение минимальной оплаты труда

повышение уровня жизни населения

+ усиление дифференциации доходов населения

уменьшение неравенства в распределении доходов

**Если 10% беднейшего населения страны получает 5 % всех доходов, а 10 % самых богатых людей – 42,5 % доходов, то децильный коэффициент будет равен:**

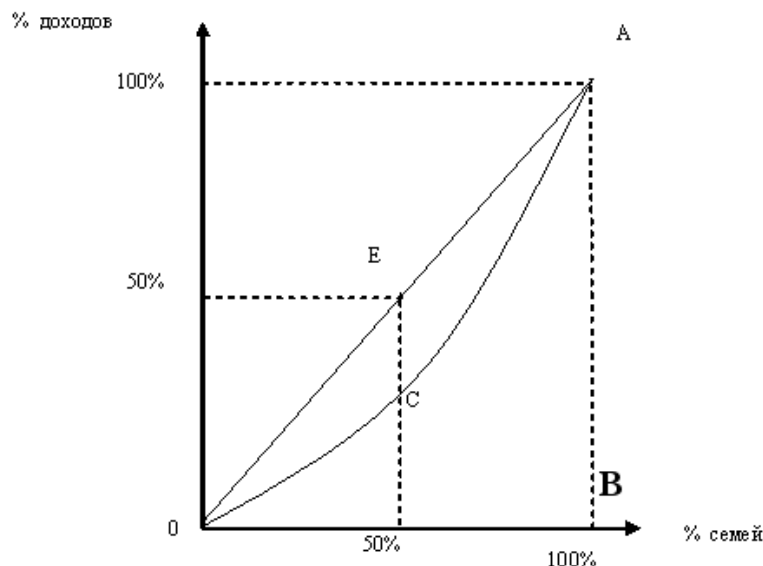
4,25

2,1

0,5

+ 8,5

**Коэффициент Джини рассчитывается как отношение площади:**



ОСAB к площади треугольника OAB  
 треугольника OAB к площади ОСAB  
 + OEAC к площади треугольника OAB  
 треугольника OAB к площади OEAC

**К общественным благам относятся:**

производство продовольствия  
 + национальную оборону  
 почтовые услуги  
 транспортные услуги

**К целям второго уровня в процессе макроэкономического регулирования не относится:**

свободное развитие общества  
 установление и поддержание правового порядка  
 внешняя и внутренняя безопасность  
 + стабильность уровня цен и устойчивость национальной валюты

**Закон Парето характеризует:**

+ количественную зависимость в распределении доходов  
 функциональную зависимость в распределении доходов  
 квинтильную зависимость в распределении доходов  
 квартильную зависимость в распределении доходов

**Какие производства и /или ресурсы вызывают наибольшее количество конфликтов в связи с внешними эффектами:**

вредные производства  
 редкие ресурсы  
 ресурсы или производства, имеющие стратегическое назначение  
 + ресурсы, которые из категории неограниченных перемещаются в категорию редких

**Укажите, какое утверждение верно:**

"фиаско" (провалы) рынка возникают только в результате государственного регулирования  
 эффективность по Парето предполагает максимально справедливое распределение благ  
 загрязнение окружающей среды не является препятствием к достижению Парето-эффективного равновесия  
 + общественные блага характеризуются совместным потреблением и неисключаемостью.

**Чисто общественные блага – это блага:**

производство и потребление которых не связано с криминальной деятельностью  
 производство и потребление которых не связано с загрязнением окружающей среды

которые потребляются без загрязнения окружающей среды

+ которые потребляются людьми независимо от того, платили они за них или нет

**Какие внешние эффекты проявляются при производстве чистообщественных благ:**

+ положительные

отрицательные

и положительные, и отрицательные

внешние эффекты отсутствуют

**По критерию Всемирного банка к проживающим в бедности относят лиц с ежедневным доходом, не превышающим:**

+ 1 долл.

2 долл.

5 долл.

10 долл.

**Таблица 5 – Критерии оценки сформированности компетенций**

Код и наименование индикатора достижения компетенции (части компетенции)	Критерии оценивания сформированности компетенции (части компетенции)		
	на базовом уровне	на повышенном уровне	
	соответствует оценке «удовлетворительно» 50-64% от максимального балла	соответствует оценке «хорошо» 65-85% от максимального балла	соответствует оценке «отлично» 86-100% от максимального балла
ИД-2УК-10 Понимает цели и механизмы основных видов государственной социально-экономической политики ИД-3УК-10 Обосновывает принятие экономических решений, использует экономические инструменты и методы при выполнении конкретных задач и достижения поставленных целей ИД-1ОПК-1 Формулирует и формализует профессиональные задачи, используя понятийный аппарат экономической, организационной и управленческой наук ИД-2ОПК-1 Использует основы экономических,	Владеет материалом по теме, но допускает ошибки при расчете основных макроэкономических показателей; обладает навыками ориентирования в макроэкономических проблемах; знает и понимает цели и механизмы основных видов государственной социально – экономической политики, но испытывает затруднения в обосновании принятых экономических решений, использовании экономических инструментов и методов при выполнении конкретных задач; допускает неточности при использовании понятийного аппарата экономической науки, с трудом формулирует и формализует	Показал знания понятийного аппарата экономической науки, производит расчеты основных макроэкономических показателей; обладает навыками ориентирования в макроэкономических проблемах, знает и понимает цели и механизмы основных видов государственной социально – экономической политики; не в полной мере владеет навыками обоснования экономических решений, применения экономических инструментов и методов при выполнении конкретных задач; допускает неточности при использовании понятийного аппарата экономической науки, формулируя и формализуя профессиональные	Принимает активное участие в ходе проведения практического занятия, правильно отвечает на поставленные вопросы, показал отличные знания понятийного аппарата экономической науки; производит расчеты основных макроэкономических показателей; обладает навыками ориентирования в макроэкономических проблемах, знает и понимает цели и механизмы основных видов государственной социально – экономической политики; владеет навыками обоснования экономических решений, применения экономических инструментов и методов при выполнении конкретных задач; использует понятийный аппарат экономической науки, формулируя и формализуя

организационных и управленческих теорий для успешного выполнения профессиональной деятельности	профессиональные задачи, использует основы экономических теорий для успешного выполнения профессиональной деятельности.	задачи; использует основы экономических теорий для успешного выполнения профессиональной деятельности.	профессиональные задачи; способен использовать основы экономических теорий для успешного выполнения профессиональной деятельности.
--	---	--	--

## 2. ОЦЕНИВАНИЕ ПИСЬМЕННЫХ РАБОТ СТУДЕНТОВ

### 2.1 Оценивание письменных работ студентов, регламентируемых учебным планом

Письменные работы студентов, регламентируемые учебным планом не предусмотрены.

### 2.2 Оценивание письменных работ студентов, не регламентируемых учебным планом

**Контрольная работа (КнР) по темам:** «Рыночный механизм: взаимодействие спроса и предложения», «Эластичность спроса и предложения», «Издержки производства и прибыль», «Типы рыночных структур. Совершенная конкуренция и монополия», «Предмет макроэкономики. Основные макроэкономические показатели и методы их измерения».

**Таблица 6 – Формируемые компетенции (или их части)**

Код и наименование компетенции	Код и наименование индикатора достижения компетенции (части компетенции)	Оценочные материалы и средства
УК-10 Способен принимать обоснованные экономические решения в различных областях жизнедеятельности	ИД-1 <sub>УК-10</sub> Знает базовые принципы функционирования экономики и экономического развития ИД-3 <sub>УК-10</sub> Обосновывает принятие экономических решений, использует экономические инструменты и методы при выполнении конкретных задач и достижения поставленных целей	Проверка содержания КнР
ОПК-1 Способен решать профессиональные задачи на основе знаний (на промежуточном уровне) экономической, организационной и управленческой теории	ИД-1 <sub>ОПК-1</sub> Формулирует и формализует профессиональные задачи, используя понятийный аппарат экономической, организационной и управленческой наук ИД-2 <sub>ОПК-1</sub> Использует основы экономических, организационных и управленческих теорий для успешного выполнения профессиональной деятельности	

*Контрольные задания по теме «Рыночный механизм: взаимодействие спроса и предложения. Эластичность спроса и предложения»*

#### 1 вариант

I. Выбрать правильный ответ

**1. Закон спроса выражает зависимость, которая показывает:**

- А) как изменяются предпочтения потребителей;
- Б) зависимость между величиной спроса на благо и его ценой;
- В) закономерности изменения рыночных цен блага;

Г) факторы, влияющие на цену блага.

**2. Что из перечисленного приведет к изменениям в предложении:**

А) изменение числа продавцов;

Б) повышение налога на добавленную стоимость в производстве блага;

В) внедрение более эффективной технологии производства блага;

Г) все перечисленное верно.

**3. Эластичность предложения по цене – это:**

А) показатель степени чувствительности изменения величины предложения блага в зависимости от изменения цены блага;

Б) показатель степени чувствительности рыночного предложения блага на изменения в уровне издержек производства блага;

В) показатель степени чувствительности изменения рыночного предложения от изменения цены на производственные ресурсы;

Г) показатель степени чувствительности изменений в объеме предложения блага на изменения в доходе потребителя блага.

**II. Решить задачу:**

Цена литра бензина возросла с 30 руб. до 31,5 руб. Месячный объем производства увеличился с 50 тыс. литров до 54 тыс. литров. Определить ценовую эластичность предложения.

**III.** Построить график ценовой эластичности спроса по показателям общей выручки и количеству спрашиваемой продукции. Отметить на кривой спроса ценовые точки и охарактеризовать полученные результаты.

Qd	2	4	6	8	16
P	5	4	3	2	1

**2 вариант**

I. Выбрать правильный ответ

**1. Кривая рыночного спроса представляет собой линию, которая отражает:**

А) готовность потребителей пожертвовать альтернативной возможностью ради данного блага;

Б) изменение величины спроса на благо в зависимости от изменения его цены;

В) желание потребителей обладать определенным количеством блага;

Г) изменения в степени дефицитности данного блага.

**2. Одновременное равномерное падение спроса и предложения всегда приведет к:**

А) снижению цены равновесия;

Б) росту цены равновесия;

В) снижению объема равновесия;

Г) к снижению как равновесной цены, так и равновесного объема.

**3. Если цена на товар выросла на 18%, а объем его предложения при этом возрос на 23%, то предложение данного товара:**

А) абсолютно эластично;

Б) абсолютно неэластично;

В) эластично;

Г) неэластично.

**II. Решить задачу:**

В результате повышения цены товара с 5 до 6 руб. объем спроса сократился с 9 млн. штук до 7 млн штук в год. Определить коэффициент ценовой эластичности спроса.

**III.** Построить график ценовой эластичности спроса по показателям общей выручки и количеству спрашиваемой продукции. Отметить на кривой спроса ценовые точки и охарактеризовать полученные результаты.

Qd	2	3	4	6	7
P	4	4	3	1,5	1

**3 вариант**



I. Выбрать правильный ответ

**1. Если цена блага понизится, то можно с уверенностью утверждать, что:**

- А) произойдет смещение кривой спроса влево вниз;
- Б) произойдет смещение кривой спроса вправо вверх;
- В) произойдет увеличение объема спроса на данное благо;
- Г) произойдет сокращение величины спроса на данное благо.

**2. Товар можно отнести к недоброкачественным, если:**

- А) эластичность его спроса по доходу равна -0,5;
- Б) ценовая эластичность его спроса равна 1;
- В) перекрестная эластичность равна -0,7;
- Г) эластичность спроса по доходу равна 1,3.

**3. В случае, если, несмотря на изменения цены товара, общая выручка не изменяется, коэффициент ценовой эластичности спроса:**

- А) больше единицы;
- Б) меньше единицы;
- В) равен единице;
- Г) равен 0;
- Д) стремится к бесконечности.

**II. Решить задачу:**

Цена 1 литра молока возросла с 20 руб. до 22 руб., месячный объем производства увеличился с 10 тыс. литров до 11,5 тыс. литров. Определить ценовую эластичность предложения.

**III. Построить график ценовой эластичности спроса по показателям общей выручки и количеству спрашиваемой продукции. Отметить на кривой спроса ценовые точки и охарактеризовать полученные результаты.**

Qd	3	4	5	8	10
P	6	5	4	2	1

#### 4 вариант

I. Выбрать правильный ответ

**1. Если доходы потребителей снизятся, то можно предположить, что:**

- А) кривая спроса сдвинется вправо;
- Б) кривая спроса сдвинется влево;
- В) рыночная цена блага возрастет;
- Г) будет потребляться то же количество блага по более низкой цене.

**2. Эластичность спроса по цене – это:**

- А) показатель степени чувствительности изменения величины спроса на благо в зависимости от изменений цены блага;
- Б) показатель степени чувствительности рыночного спроса в зависимости от изменений в параметрах спроса;
- В) показатель степени изменения цены спроса в зависимости от изменений в параметрах спроса;
- Г) показатель степени чувствительности величины спроса в зависимости от устойчивости рыночной равновесной цены.

**3. Предложение товара совершенно неэластично. Если спрос на товар вырастет, то равновесная цена:**

- А) уменьшится, а равновесный объем вырастет;
- Б) уменьшится и равновесный объем;
- В) уменьшится, а равновесный объем не изменится;
- Г) увеличится, а равновесный объем не изменится;
- Д) увеличится, и равновесный объем увеличится.

**II. Решить задачу:**

Как повлияет повышение цены говядины на 20% на рынок свинины, если известно, что их перекрестная эластичность  $E_{ст} = +0,28$

**III.** Построить график ценовой эластичности спроса по показателям общей выручки и количеству спрашиваемой продукции. Отметить на кривой спроса ценовые точки и охарактеризовать полученные результаты.

Qd	3	5	7	8	16
P	4	3	2,5	2	1

#### 5 вариант

I. Выбрать правильный ответ

**1. Закон рыночного предложения выражает зависимость, которая показывает:**

- А) как изменяется величина предложения блага в зависимости от его цены;
- Б) как растет потребление блага по мере увеличения его производства;
- В) как будет снижаться производство блага при снижении цен на ресурсы;
- Г) как изменяются доходы продавцов при увеличении его производства.

**2. Если коэффициент перекрестной эластичности двух товаров равен + 1,4, то это свидетельствует о том, что:**

- А) товары являются дополняющими благами;
- Б) товары являются субститутами;
- В) предложение товаров увеличится в 1,4 раза при снижении цены;
- Г) спрос на оба товара снижается.

**3. Если цена на товар выросла на 18%, а объем его спроса при этом возрос на 15%, то спрос данного товара:**

- А) абсолютно эластичный;
- Б) абсолютно неэластичный;
- В) эластичный;
- Г) неэластичный.

**II. Решить задачу:**

Определить коэффициент ценовой эластичности спроса на клюквенный морс, если цена на него повысилась с 10 до 15 руб. за литр, а объем спроса сократился на 50%.

**III.** Построить график ценовой эластичности спроса по показателям общей выручки и количеству спрашиваемой продукции. Отметить на кривой спроса ценовые точки и охарактеризовать полученные результаты.

Qd	10	7	4	3	1
P	10	30	50	60	70

*Контрольные задания по теме «Издержки производства и прибыль»*

#### 1 вариант

1. Дать определение постоянных и предельных издержек
2. Как определяется бухгалтерская прибыль фирмы?

*Выбрать правильный ответ:*

**1. Приращение общих издержек, вызванное увеличением объема производства на одну единицу – это:**

- а) явные издержки
- б) предельные издержки
- в) средние издержки
- г) альтернативные издержки

**2. Производство принесет экономическую прибыль, если:**

- а) TC больше TR
- б) AC больше MR
- в) P больше AC
- г) P больше AVC

д)  $MR$  больше  $P$

**3. Переменные издержки фирмы – это:**

- а) издержки, которые несет фирма даже в том случае, если продукция не производится
- б) издержки, которые меняются в зависимости от изменения объема фирмы
- в) средние общие издержки
- г) альтернативные издержки

**Решить задачи:**

1) Информация об издержках фирмы следующая:

Если  $Q = 15$ ,  $AFC = 20$

$Q = 30$ ,  $AVC = 30$

$Q = 50$ ,  $AC = 90$

Определить: а) величину  $AC$  для  $Q = 30$

б) величину  $AVC$  для  $Q = 50$

2) В таблице показана зависимость общих затрат предприятия от выпуска продукции.

А) Рассчитать постоянные, переменные и предельные издержки.

Объем выпуска (Q), шт.	Общие издержки (TC), тыс. руб.	Постоянные издержки (FC), тыс. руб.	Переменные издержки (VC), тыс. руб.	Предельные издержки (MC), тыс. руб.
0	60			
1	140			
2	180			
3	240			
4	420			

Б) По данным таблицы построить график кривых постоянных и общих (валовых) издержек фирмы

**2 вариант**

- 1. Дать определение переменных и средних издержек
- 2. Как определяется экономическая прибыль фирмы?

Выбрать правильный ответ:

**1. Точка безубыточности означает:**

- а) объем продаж, при котором выручка от реализации совпадает с издержками производства
- б) разграничение зон прибылей и убытков
- в)  $TR = TC$
- г) верны ответы а) и в)
- д) все ответы верны

**2. Какое из следующих утверждений наиболее точно соответствует понятию «нормальная прибыль»:**

- а) прибыль, получаемая фирмой при  $MC = MR$
- б) прибыль, получаемая типичной фирмой в отрасли
- в) прибыль, которую получила бы фирма при нормальном ведении дел
- г) минимальная прибыль, необходимая для того, чтобы фирма оставалась в пределах данного направления деятельности

**3. Постоянные издержки фирмы – это:**

- а) затраты на ресурсы по ценам, действовавшим в момент их приобретения
- б) предельные издержки
- в) издержки, не зависящие от объемов производства
- г) имплицитные издержки
- д) ни один из ответов не является верным

**Решить задачи:**

1) Информация об издержках фирмы следующая:

Если  $Q = 10$ ,  $AFC = 40$

$Q = 20$ ,  $AVC = 40$

$Q = 40$ ,  $AC = 70$

Определить: а) величину  $AC$  для  $Q = 20$

б) величину  $AVC$  для  $Q = 40$

2) Выполнить следующие задания.

а) Заполнить таблицу издержек фирмы при производстве товара X.

Объем выпуска (Q), шт.	Общие издержки (ТС), тыс. руб.	Предельные издержки (МС), тыс. руб.	Средние издержки (АС), тыс. руб.
1	30		
2	44		
3	55		
4	72		
5	100		
6	150		

Б) По данным таблицы построить графики предельных и средних издержек фирмы

*Контрольные задания по темам «Типы рыночных структур. Совершенная конкуренция и монополия», «Монополистическая конкуренция и олигополия»*

#### **Вариант 1**

1. Производство столов в городе монополизировано компанией "100 столов". Какую цену назначает компания, если ее общие издержки по производству столов  $ТС = 10 \times Q$ , где  $Q$  — объем выпуска, тыс. шт., а эластичность спроса по цене на столы равна 5?

2. Известно, что рынок бензина в стране находится в условиях совершенной конкуренции. Спрос на бензин описывается уравнением  $Q_d = 200 - 20P$ , где  $Q_d$  — количество покупаемого бензина, тыс. галлонов,  $P$  — цена 1 галлона бензина, ден. ед. Средние издержки типичной бензоколонки равняются следующему выражению:  $АС = 5 + (q - 5)^2$ .

Какое число бензоколонок действует в отрасли в долгосрочной перспективе?

#### **Вариант 2**

1. Фирма "Самоцветы" производит бижутерию (тыс. штук в год) и действует на рынке монополистической конкуренции. Предельный доход этой фирмы описывается формулой:  $MR = 20 - 2Q$ , ее предельные издержки в долгосрочном периоде (на возрастающем участке) — формулой  $МС = 3Q - 10$ . Если минимальное значение долгосрочных средних издержек (АС) составляет 11, то каков будет избыток производственных мощностей у этой фирмы?

2. Выделите основные черты сходства и отличия рынка монополистической конкуренции по отношению к рынкам совершенной конкуренции и чистой монополии.

*Контрольные задания по теме «Предмет макроэкономики. Основные макроэкономические показатели и методы их измерения»*

#### **Вариант 1**

Решить задачи:

1. Имеются следующие данные (в млн.долл.):

Трансфертные платежи = 6,0

Валовые внутренние инвестиции = 24,3

Косвенные налоги на бизнес = 10,5

Личные подоходные налоги = 3,9

Чистый экспорт = 1,7

Нераспределенная прибыль корпораций = 4,2

Амортизация = 12,0

Личные потребительские расходы = 115,8

Налоги на прибыль корпораций = 2,1

Взносы на социальное страхование = 0,3

Государственные закупки товаров и услуг = 12,8

Рассчитать

а) Показатели ВВП и личного располагаемого дохода.

б) Какова величина частных сбережений?

2. ВВП номинальный равен 3000 млрд. долл., дефлятор равен 1,3.

Определить реальный ВВП.

3. Определите, какие из нижеприведенных утверждений являются верными, а какие нет:

Определите, верным или нет является следующее утверждение:

Реальный ВВП – это стоимость товаров и услуг, произведенных за год, измеренная в текущих ценах.

### **Вариант 2**

Решить задачи:

1. Закрытая экономика описывается следующими показателями:

потребительские расходы = 1800

валовые инвестиции = 750

государственные расходы = 450

государственные трансферты = 300

проценты по государственному долгу = 150

налоги = 600

чистый экспорт = -150

Рассчитать:

а) частные сбережения;

б) государственные сбережения;

в) сбережения внешнего мира.

2. Равновесный уровень ЧНП = 4000.  $MPS = 0,2$ . Рост государственных закупок составил 100 ед. и одновременно ослаблены налоги на 100 ед.

Определить исходный уровень ЧНП.

3. Определите, верным или нет является следующее утверждение:

Объемы номинального и реального ВВП могут быть измерены только в денежном выражении.

### **Вариант 3**

Решить задачи:

1. На основе приведенных данных (в млн.долл.) рассчитать объем ВВП по доходам и расходам.

Потребительские расходы = 1000

Рентные платежи = 60

Государственные закупки = 400

Зарплата = 795

Процент за кредит = 48

Импорт = 300

Косвенные налоги = 80

Прибыль компаний = 412

Экспорт = 240

Инвестиции = 220

Доходы от собственности = 85

Амортизация = 80

2. Исходный уровень ЧНП – 4000.  $MPC = 0,8$ . Росли инвестиции – на 100 ед. и росли налоги на 100 ед.

Определить равновесный уровень ЧНП.

3. Определите, верным или нет является следующее утверждение:

ВВП, рассчитанный методом потока доходов, равен ВВП, рассчитанному методом потока товаров.

### **Вариант 4**

1. На основе приведенных данных (в млн. долл.) рассчитать объем НД и ЧВП.

Решить задачи:

Потребительские расходы = 400

Рентные платежи = 80

Процент за кредит = 60

Зарплата = 500

Импорт = 100

Доходы от собственности = 50

Амортизация = 40

Косвенные налоги = 70

Прибыль компаний = 240

2. Исходный уровень ЧНП – 4000. MPC = 0,75. Налоги выросли на 100 ед.

Определить равновесный уровень ЧНП

3. Определите, верным или нет является следующее утверждение:

Величина чистого экспорта равна сумме экспорта товаров и услуг минус объем импорта данной страны.

### Вариант 5

Решить задачи:

1. Экономика описана следующими показателями:

потребительские расходы = 3400

инвестиции = 1000

государственные расходы = 1200

государственные трансферты = 200

проценты по государственному долгу = 200

налоги = 1200

Предполагается, что ВВП = ВНД

Рассчитать:

а) частные сбережения;

б) государственные сбережения;

в) стоимость государственных облигаций и дополнительного количества денег, выпущенных для покрытия дефицита государственного бюджета, если известно, что дефицит на 75% финансируется выпуском облигаций.

2. Реальный ВВП – 500 ед. Дефлятор – 1,25.

Определить номинальный ВВП.

3. Определите, верным или нет, является следующее утверждение:

Получатель трансфертных платежей должен что-то отдавать за них государству.

Оценка сформированности компетенций при выполнении КНР осуществляется по содержанию и правильности выполнения. Минимальное количество баллов – 3, максимальное – 5.

Критерии оценивания сформированности компетенций представлены в таблице 7.

**Таблица 7 – Критерии оценки сформированности компетенций контрольной работы**

Код и наименование индикатора достижения компетенции (части компетенции)	Критерии оценивания сформированности компетенции (части компетенции)		
	на базовом уровне	на повышенном уровне	
	соответствует оценке «удовлетворительно» 50-64% от максимального балла	соответствует оценке «хорошо» 65-85% от максимального балла	соответствует оценке «отлично» 86-100% от максимального балла
УК-10 Способен принимать обоснованные экономические решения в различных областях жизнедеятельности	Правильно выполняет половину поставленных заданий, усвоил базовые принципы функционирования экономики: экономическое	С незначительными ошибками выполняет задания, показывает полное владение знаниями базовых принципов функционирования	Правильно выполняет все задания, показывает глубокое и полное владение знаниями базовых принципов функционирования экономики:

ОПК-1 Способен решать профессиональные задачи на основе знаний (на промежуточном уровне) экономической, организационной и управленческой теории	взаимодействие спроса и предложения; понятие издержек производства и их классификацию, типы рыночных структур, основные макроэкономические показатели для расчета необходимых величин и показателей; с малозначительными погрешностями решает задачи на основе знаний экономической теории, испытывает затруднения при принятии обоснованных экономических решений.	экономики: экономическое взаимодействие спроса и предложения; понятие издержек производства и их классификацию, типы рыночных структур, основные макроэкономические показатели для расчета необходимых величин и показателей; решает задачи на основе знаний экономической теории, с достаточной долей самостоятельности принимает обоснованные экономические решения.	экономическое взаимодействие спроса и предложения; понятие издержек производства и их классификацию типы рыночных структур, основные макроэкономические показатели для расчета необходимых величин и показателей, решает задачи на основе знаний экономической теории, самостоятельно принимает обоснованные экономические решения.
---	---	--	---

### Реферативная работа студентов

**Таблица 8 – Формируемые компетенции (или их части)**

Код и наименование компетенции	Код и наименование индикатора достижения компетенции (части компетенции)	Оценочные материалы и средства
УК-10 Способен принимать обоснованные экономические решения в различных областях жизнедеятельности	ИД-1 <sub>УК-10</sub> Знает базовые принципы функционирования экономики и экономического развития ИД-2 <sub>УК-10</sub> Понимает цели и механизмы основных видов государственной социально-экономической политики ИД-3 <sub>УК-10</sub> Обосновывает принятие экономических решений, использует экономические инструменты и методы при выполнении конкретных задач и достижения поставленных целей	Проверка содержания реферата
ОПК-1 Способен решать профессиональные задачи на основе знаний (на промежуточном уровне) экономической, организационной и управленческой теории	ИД-2 <sub>ОПК-1</sub> Использует основы экономических, организационных и управленческих теорий для успешного выполнения профессиональной деятельности	

#### Темы рефератов:

1. Конкуренция, ее виды, формы.
2. Основные формы монополистических объединений.
3. Антимонопольная политика и ее направления.
4. Антимонопольное законодательство.
5. Макроэкономические показатели России.
6. Современное состояние экономики России: ее развитие, прогнозы.
7. Особенности национального потребления.
8. Модель национального рынка AD-AS. Характер кривых совокупного спроса и совокупного предложения
9. Национальное равновесие ( $AD=AS$ )

10. Особенности инфляции спроса в национальной экономике.
11. Инфляция, ее причины. Антиинфляционная политика
12. Уровень безработицы в различных странах.
13. Безработица, как фактор экономической нестабильности.
14. Дилемма: эффективность и справедливость
15. Социальная политика. Система социальной защиты населения.
16. Неравенство доходов и социальная политика государства.

Оценка сформированности компетенций при выполнении реферативной работы осуществляется по содержанию и правильности выполнения. Минимальное количество баллов – 5, максимальное – 10.

Критерии оценивания сформированности компетенций представлены в таблице 9.

**Таблица 9 – Критерии оценки сформированности компетенций реферативной работы**

Код и наименование индикатора достижения компетенции (части компетенции)	Критерии оценивания сформированности компетенции (части компетенции)		
	на базовом уровне	на повышенном уровне	
	соответствует оценке «удовлетворительно» 50-64% от максимального балла	соответствует оценке «хорошо» 65-85% от максимального балла	соответствует оценке «отлично» 86-100% от максимального балла
ИД-1 <sub>ук-10</sub> Знает базовые принципы функционирования экономики и экономического развития ИД-2 <sub>ук-10</sub> Понимает цели и механизмы основных видов государственной социально-экономической политики ИД-3 <sub>ук-10</sub> Обосновывает принятие экономических решений, использует экономические инструменты и методы при выполнении конкретных задач и достижения поставленных целей ИД-2 <sub>опк-1</sub> Использует основы экономических, организационных и управленческих теорий для успешного выполнения профессиональной деятельности	Выполняет основные требования к написанию и защите реферата, но допускает существенные отступления от требований к реферированию, в частности: тема освещена лишь частично, допущены ошибки в содержании реферата или при ответах на вопросы во время выступления; с малозначительными погрешностями обосновывает экономические решения в рамках темы исследования; при рассмотрении тем по макроэкономике понимает цели и механизмы основных видов государственной социально-экономической политики; испытывает затруднения при использовании основ экономической теории, использует экономические инструменты и методы для достижения	Выполняет все требования к написанию и защите реферата: обозначена проблема и обоснована ее актуальность, проведен краткий анализ различных точек зрения на рассматриваемую проблему, но при этом допущены незначительные недочеты, в частности, имеются неточности в изложении материала, отсутствует логическая последовательность в суждениях, не выдержан объем реферата, имеются упущения в оформлении; дает неполные ответы на дополнительные вопросы, обосновывает экономические решения в рамках темы исследования; при рассмотрении тем по макроэкономике понимает цели и механизмы основных видов государственной социально-экономической политики; с достаточной долей самостоятельности использует основы	Выполняет все требования к написанию и защите реферата: обозначена проблема и обоснована ее актуальность, проведен краткий анализ различных точек зрения на рассматриваемую проблему, логично изложена собственная позиция, сформулированы выводы, тема раскрыта полностью, выдержан объем, соблюдены требования к внешнему оформлению; демонстрирует навыки публичного выступления, отвечает на заданные вопросы, обосновывает экономические решения в рамках темы исследования; при рассмотрении тем по макроэкономике понимает цели и механизмы основных видов государственной социально-экономической политики; использует основы экономической теории, экономические



	поставленной цели; при выполнении	экономической теории, владеет навыками использования экономических инструментов и методов для достижения поставленной цели.	инструменты и методы при выполнении конкретных задач и достижения поставленных целей в рамках темы исследования.
--	-----------------------------------	---	--

### 3 ОПРЕДЕЛЕНИЕ РЕЗУЛЬТАТА ПРОМЕЖУТОЧНОЙ АТТЕСТАЦИИ

Форма промежуточной аттестации по дисциплине *экзамен*.

#### ОЦЕНОЧНЫЕ МАТЕРИАЛЫ И СРЕДСТВА ДЛЯ ПРОВЕРКИ СФОРМИРОВАННОСТИ КОМПЕТЕНЦИЙ

**УК-10. Способен принимать обоснованные экономические решения в различных областях жизнедеятельности**

*Выберите один правильный вариант ответа:*

**1. В краткосрочном периоде фирма, максимизирующая прибыль, прекратит производство, если окажется, что:**

- цена меньше минимальных средних издержек
- нормальная прибыль ниже отраслевой
- + общий доход меньше общих переменных издержек
- общий доход меньше общих издержек

**2. Какие из следующих видов издержек не принимаются во внимание при выработке решений об оптимальном объеме производства фирмы?**

- средние переменные издержки
- + средние постоянные издержки
- бухгалтерские издержки
- предельные издержки

*Дополните*

**1. Оптимальной является комбинация факторов производства, при которой предельная норма технологического замещения факторов равна соотношению их**

---

Ответ: предельных продуктов

**1. \_\_\_\_\_ это система агрегированных показателей кругооборота расходов и доходов, позволяющих измерить результаты экономической деятельности и принимать решения по регулированию и прогнозированию экономического развития.**

Ответ: Система национальных счетов

*Дайте развернутый ответ на вопрос:*

**1. Что такое детерминанты предложения?**

Правильный ответ: Детерминанты предложения – это ценовые ( $P_x$ ), и неценовые параметры рынка, которые оказывают влияние на способность производителей (продавцов) осуществлять рыночное предложение, то есть обеспечивать производство благ с затратами, которые были бы не выше рыночной цены блага. Параметры производства, которые определяют уровень затрат, называются неценовыми детерминантами (факторами) предложения. К ним относятся:

- цены ресурсов для производства благ: природных ( $P_N$ ), капитальных ( $P_K$ ), трудовые ( $P_W$ );
- технологии ( $H$ );

- численность продавцов (М);
- налоги (Т);
- ожидания производителей (Е).

Совокупное воздействие этих детерминант на количественные параметры рыночного предложения выразится в функции предложения, которая задается в виде уравнения:

$$Q_x^S = f(P_X, P_N, P_K, P_W, H, M, T, E).$$

## **2. В чем выражается эффект от масштаба?**

Правильный ответ: Эффект масштаба – это свойство процесса производства, отражающее характер изменения соотношения между увеличением затрат факторов производства и изменением объема выпуска. В зависимости от характера изменения соотношения между увеличением факторов и ростом выпуска различают положительный, постоянный и отрицательный эффект от масштаба.

Постоянный (неизменный) эффект от масштаба выражается в том, что объем выпуска увеличивается в той же пропорции, что и затраты факторов.

Положительный (растущий) эффект от масштаба выражается в том, что объем выпуска увеличивается в большей пропорции, чем затраты факторов.

Отрицательный (снижающийся) эффект от масштаба выражается в том, что объем выпуска увеличивается в меньшей пропорции, чем затраты факторов.

## **3. В чем заключается принцип максимизации прибыли?**

Правильный ответ: Принцип максимизации прибыли – это способ определения объема выпуска фирмы, который обеспечит ей получение максимальной прибыли при данных цене продукта и издержках его производства. Существуют два способа анализа максимизации прибыли:

1. Основан на сопоставлении общей выручки и общих издержек;
2. На предельном анализе и состоит в сопоставлении предельной выручки и предельных издержек.

В первом случае фирма максимизирует прибыль при таком объеме выпуска, при котором общая выручка превышает общие издержки производства на наибольшую величину.

Во втором случае фирма максимизирует прибыль при таком объеме выпуска, для которого предельная выручка равна предельным издержкам производства.

## **4. Что показывает граница производственных возможностей?**

Правильный ответ: Граница производственных возможностей показывает максимально достижимые объемы выпуска благ при условии полного использования всех ресурсов при существующих технологиях. Любая точка на этой кривой показывает структуру набора производимых благ.

Любые варианты, лежащие за пределами данных производственных возможностей являются недостижимыми. Однако увеличение выпуска возможно при экономическом росте – увеличении экономического потенциала страны.

Любая точка, внутри кривой производственных возможностей указывает на неполную занятость ресурсов, на их неэффективное использование. В то же время это говорит о наличии резервов в обществе.

## **5. Что включается при исчислении ВВП по расходам, или методом конечного использования?**

Правильный ответ: Расчет ВВП по расходам, или методом конечного использования представляет собой сумму расходов всех экономических субъектов:  $VNP = C + I + G + X_n$ , где  $C$  - личные потребительские расходы;  $I$  - инвестиционные расходы предприятий;  $G$  - государственные расходы;  $X_n$  - расходы на чистый экспорт.

## **6. Инфляция и причины, ее вызывающие?**

Правильный ответ: Инфляция – это снижение покупательной способности национальной денежной единицы. Причинами, вызывающими инфляцию, являются:

- 1) дефицит государственного бюджета;
- 2) высокая степень монополизации экономики;

- 3) диспропорции на микро- и макроуровне;
- 4) отрицательное сальдо внешнеторгового баланса;
- 5) рост мировых цен на энергоносители.

Процесс, противоположный инфляции, называют дефляцией; замедление темпов инфляции – дезинфляцией.

**ОПК-1 Способен решать профессиональные задачи на основе знаний (на промежуточном уровне) экономической, организационной и управленческой теории**

**Выберите один правильный вариант ответа:**

**1. Если цена на товар выросла на 18%, а объём его предложения при этом возрос на 23%, то предложение данного товара:**

- абсолютно эластично
- абсолютно неэластично
- + эластично
- неэластично

**2. Если минимальное значение  $AVC = 34$  ден. ед., минимальное значение  $AC = 45$  ден. ед., то в каком денежном интервале фирма сможет только минимизировать убытки:**

- $P > 34$
- $P < 34$
- $+ 34 < P < 45$
- $P > 45$

**3. Если объём реального ВВП снизился на 6%, а численность населения в том же году сократилась на 3%, то:**

- + реальный ВВП на душу населения снизился
- реальный ВВП на душу населения увеличился, а номинальный снизился
- номинальный ВВП не изменился
- цены упали на 3%

### **Практико-ориентированные задания**

**Задание 1.** Предположим, после окончания средней школы вы стоите перед выбором: начать трудовую жизнь или учиться в высшем учебном заведении. Если известно, что за весь период обучения затраты на питание составят 480 тыс. руб., затраты на оплату обучения – 280 тыс. руб., совокупный доход от трудовой деятельности, который можно было бы получить за тот же период, равен 960 тыс. руб.

Определить: Какими в данном случае будут альтернативные издержки получения высшего образования?

Решение: Альтернативные издержки =  $280 + 960 = 1240$  тыс. руб.

Правильный ответ: Альтернативные издержки получения высшего образования составят 1240 тыс. руб.

**Задание 2.** Спрос на яблоки в городе Яблоковске описывается уравнением:  $Q_d = 500 - 20P$ , а предложение яблок  $Q_s = 20 + 4P$ .

Определить:

1. Параметры равновесия на рынке яблок (равновесную цену и количество).
2. Какое количество яблок будет продано при цене 17 руб. за кг?

Решение:

1.  $500 - 20P = 20 + 4P$   
 $480 = 24P$   
 $P_E = 20$  руб. равновесная цена  
 $Q_E = 500 - 20 \cdot 20 = 100$  кг равновесное количество
2.  $Q_d = 500 - 20 \cdot 17 = 160$  кг в день;  
 $Q_s = 20 + 4 \cdot 17 = 88$  кг в день.

Правильный ответ:

1. Равновесная цена яблок ( $P_E$ ) составит 20 руб., равновесное количество яблок ( $Q_E$ ) = 100 кг.
2. Потребители захотят купить 160 кг яблок по цене 17 руб. за кг, но смогут купить столько, сколько продавцы им продадут, т. е. 88 кг.

**Задание 3.** Функция предложения бензина задана как  $Q_S = 25 + 0,5P$ , а функция спроса на него – как  $Q_D = 125 - 2P$ . Правительство ввело налог на бензин ( $T$ ) в размере 10 ден. ед. за литр. Рассчитать, какая величина налоговых поступлений ( $\Sigma T$ ) поступит в казну государства.

Решение:

$$25 + 0,5P = 125 - 2P$$

$$P = 42$$

$$Q = 41$$

$$\Sigma T = 41 \times (42 - 10) = 410$$

Правильный ответ: Величина налоговых поступлений ( $\Sigma T$ ) в казну государства составит 410 ден. ед.

**Задание 4.** В краткосрочный период фирма производит 600 единиц продукции. Средние переменные издержки ( $AVC$ ) составляют 4 ден. ед., средние постоянные издержки ( $AFC$ ) = 2 ден. ед., выручка фирмы ( $TR$ ) = 4000 ден. ед.

Определить: Прибыль ( $Pr$ ) фирмы.

Решение:

$$Pr = 4000 - 600 \times (2 + 4) = 400 \text{ ден. ед.}$$

Правильный ответ: Прибыль фирмы ( $Pr$ ) при сложившихся издержках и выручке равна 400 ден. ед.

**Задание 5.** Количество единиц привлеченного фактора производства составляет 40.  $AP$  составляет 1200 единиц, а  $MP$  41-й единицы фактора составляет 1280.

Определить:

1.  $MRP$  41 единицы привлеченного фактора при условии, что фирма функционирует в условиях совершенной конкуренции ресурсного и товарного рынков, и цена единицы ее продукции составляет 50 рублей;

2. Какое решение должна принять фирма, если цена привлекаемой 41 единицы фактора составляет 65000 рублей

Решение:

$$1. MRP \text{ 41 единицы привлеченного фактора} = 1280 \times 50 = 64000 \text{ руб.}$$

2. Фирма не будет привлекать 41 единицу фактора, так как  $MRP < MRC$ .

Правильный ответ:

1. Предельный продукт в денежном выражении ( $MRP$ ) 41 привлеченной единицы = 64000 рублей.

2. Фирма откажется от привлечения 41 единицы фактора, так как предельный продукт 41 привлеченной единицы в денежном выражении 64000 рублей меньше цены этого привлекаемого фактора (65000 рублей).

**Задание 6.** Фирме предлагают купить оборудование на 5-летний срок с условием 100% износа и возможностью получения ежегодно 350000 рублей дополнительного дохода. При условии величины банковского процента 9% определить и обосновать:

1. Какой должна быть цена оборудования, чтобы фирма отказалась от его покупки;

2. Какое решение примет фирма, если  $PS$  оборудования 1250000 рублей.

Решение:

$$1. PV = 350000 / (1 + 0,09)^1 + 350000 / (1 + 0,09)^2 + 350000 / (1 + 0,09)^3 + 350000 / (1 + 0,09)^4 + 350000 / (1 + 0,09)^5 = 1363207,8 \text{ рублей.}$$

2. Фирма приобретет оборудование, так как  $PS < PV$

Правильный ответ:

1. Чтобы фирма отказалась от покупки оборудования, его цена должна быть больше 1363207,8 рублей.

2. При цене оборудования 1250000 рублей фирма приобретет оборудование, так как доход от него составит 1363207,8 рублей.

**Задание 7.** При изготовлении аккумуляторов для автомобилей труд является переменным фактором, а производственная функция краткосрочного периода описывается как  $Q = 100 + 64L - 4L^2$ . Руководство завода поставило перед собой цель определить ежесуточный объем переменного фактора, при котором достигается максимальный объем выпуска продукции.

Решение:

Предельная производительность достигается при  $MP_L = 0$ . Определяем функцию предельного продукта по труду, взяв производную производственной функции:  $(100 + 64L - 4L^2)' = 64 - 8L$ . Следовательно,  $MP_L = 64 - 8L$ .

Приняв  $MP_L = 0$ , получаем  $8L = 64$ ,  $L = 8$

Правильный ответ: Ежесуточный объем переменного фактора, при котором достигается максимальный объем выпуска продукции составит 8 единиц труда.

**Задание 8.** Реальный ВВП страны за год составил 480 трлн. руб. дефлятор ВВП равен 125%.

Определить: Номинальный ВВП

Решение: Номинальный ВВП =  $480 \times 125\% / 100\% = 600$  трлн. руб.

Правильный ответ: Номинальный ВВП составил в текущем году 600 трлн. руб.

**Задание 9.** Прирост инвестиций составил 15 млрд. руб., что привело к росту ВВП на 37,5 млрд. руб.

Определить: мультипликатор ВВП.

Решение:  $37,5 / 15 = 2,5$

Правильный ответ: Мультипликатор ВВП равен 2,5

**Задание 10.** Для того, чтобы уменьшить безработицу с 9 до 7% при коэффициенте Оукена, равном 2,5%, надо обеспечить экономический рост.

Определить: Сколько процентов должен составить экономический рост?

Решение:  $(9 - 7) \times 2,5\% = 5\%$

Правильный ответ: Для снижения безработицы на 2%, экономический рост должен составить 5%

**Задание 11.** Размер государственного долга за год составил 200 млрд. руб., расходы государственного бюджета за тот же год составили 1200 млрд. руб., в абсолютном выражении было получено налогов на сумму 800 млрд. руб.

Определить: долю налоговых поступлений в общей сумме государственных доходов (в процентах).

Решение:  $800 / (1200 - 200) \times 100\% = 80\%$

Правильный ответ: Доля налоговых поступлений в общей сумме государственных доходов равняется 80%

**Задание 12.** 10% беднейшего населения страны получает 7% всех доходов, а 10% самых богатых людей – 42,5% доходов.

Определить: Чему будет равен децильный коэффициент?

Решение: Децильный коэффициент =  $42,7 / 7 = 6,1$

Правильный ответ: Децильный коэффициент в данной стране равен 6,1

Окончательные результаты обучения (формирования компетенций) определяются посредством перевода баллов, набранных студентом в процессе освоения дисциплины, в оценки:

– базовый уровень сформированности компетенции считается достигнутым если результат обучения соответствует оценке «удовлетворительно» (50 до 64 рейтинговых баллов);

– повышенный уровень сформированности компетенции считается достигнутым, если результат обучения соответствует оценкам «хорошо» (65-85 рейтинговых баллов) и «отлично» (86-100 рейтинговых баллов).

## 4 ПОРЯДОК ПРОВЕДЕНИЯ ПОВТОРНОЙ ПРОМЕЖУТОЧНОЙ АТТЕСТАЦИИ

Форма промежуточной аттестации по дисциплине *экзамен*.

Фонд оценочных средств для проведения повторной промежуточной аттестации формируется из числа оценочных средств по темам, которые не освоены студентом.

*Примечание:*

Дополнительные контрольные испытания проводятся для студентов, набравших менее **50 баллов** (в соответствии с «Положением о модульно-рейтинговой системе»).

**Таблица 10 - Критерии оценки сформированности компетенций**

Код и наименование индикатора достижения компетенции (части компетенции)	Критерии оценивания сформированности компетенции (части компетенции)
	на базовом уровне
	соответствует оценке «удовлетворительно» 50-64% от максимального балла
ИД-1 <sub>УК-10</sub> Знает базовые принципы функционирования экономики и экономического развития	Знает понятийный аппарат экономической науки, но имеет пробелы в усвоении базовых принципов функционирования экономики и экономического развития на микро- и макроуровне: экономического взаимодействия спроса и предложения, понятия издержек производства и их классификации, основных закономерностей конкурентного и монопольного рынков, спроса и предложения на рынках факторов производства, основных макроэкономических показателей; обладает навыками ориентирования в макроэкономических проблемах, знает и понимает цели и механизмы основных видов государственной социально – экономической политики; не в полной мере владеет навыками обоснования экономических решений, применения экономических инструментов и методов при выполнении конкретных задач; допускает неточности формулируя и формализуя профессиональные задачи; использует основы экономических теорий для успешного выполнения профессиональной деятельности
ИД-2 <sub>УК-10</sub> Понимает цели и механизмы основных видов государственной социально-экономической политики	
ИД-3 <sub>УК-10</sub> Обосновывает принятие экономических решений, использует экономические инструменты и методы при выполнении конкретных задач и достижения поставленных целей	
ИД-1 <sub>ОПК-1</sub> Формулирует и формализует профессиональные задачи, используя понятийный аппарат экономической, организационной и управленческой наук	
ИД-2 <sub>ОПК-1</sub> Использует основы экономических, организационных и управленческих теорий для успешного выполнения профессиональной деятельности	